

MATEMATİK TEKRAR ÇALIŞMASI 2

Verilen sayıların okunuşlarını yazınız.

Verilen sayıları rakamlarla yazınız.

49.....
85.....
68.....




elli iki.....
yetmiş altı.....
doksan dört.....

Aşağıdaki toplama ve çıkarma işlemlerini zihinden yapınız.

$$70 - 60 = \dots\dots \quad 15 + 13 = \dots\dots \quad 39 + 11 = \dots\dots \quad 90 - 50 = \dots\dots$$

$$21 + 25 = \dots\dots \quad 90 - 20 = \dots\dots \quad 14 + 16 = \dots\dots \quad 90 - 10 = \dots\dots$$

Kutuların altına bilyelerin kaç onluk ve kaç birlikten oluştuğunu yazınız.



..... onluk + birlik

..... onluk + birlik

..... onluk + birlik

Üçer ritmik sayarken 9. söylediğimiz sayı kaçtır?

Dörder ritmik sayarken 5. söylediğimiz sayı kaçtır?

İkişer ritmik sayarken 7. söylediğimiz sayı kaçtır?

İkişer ritmik sayarken 9. söylediğimiz sayı kaçtır?

81, 76, 71, 66, 61, 57 örüntüsünü bozan sayıyı bulun.

44, 46, 48, 51, 52, 54 örüntüsünü bozan sayıyı bulun.

25, 24, 23, 22, 21, örüntüsünde noktalı yere kaç yazılmalıdır?



MATEMATİK TEKRAR ÇALIŞMASI 2

Verilen sayıların okunuşlarını yazınız.

Verilen sayıları rakamlarla yazınız.

54.....
95.....
86.....






kırk yedi.....
elli.....
on yedi.....

Aşağıdaki toplama ve çıkarma işlemlerini zihinden yapınız.

$$80 - 50 = \dots\dots \quad 18 + 27 = \dots\dots \quad 16 + 21 = \dots\dots \quad 17 + 18 = \dots\dots$$

$$29 + 12 = \dots\dots \quad 80 - 30 = \dots\dots \quad 20 - 10 = \dots\dots \quad 60 - 40 = \dots\dots$$

Kutuların altına bilyelerin kaç onluk ve kaç birlikten oluştuğunu yazınız.



..... onluk + birlik

..... onluk + birlik

..... onluk + birlik

Dörder ritmik sayarken 8. söylediğimiz sayı kaçtır?

Dörder ritmik sayarken 4. söylediğimiz sayı kaçtır?

Dörder ritmik sayarken 9. söylediğimiz sayı kaçtır?

İkişer ritmik sayarken 2. söylediğimiz sayı kaçtır?

26, 27, 28, 29, 30, örüntüsünde noktalı yere kaç yazılmalıdır?

35, 40, 45, 50, 55, örüntüsünde noktalı yere kaç yazılmalıdır?

69, 66, 63, 60, 57, örüntüsünü devam ettirdiğinizde hangi sayıya ulaşırız?

