

MATEMATİK TEKRAR ÇALIŞMASI 2

Verilen sayıların okunuşlarını yazınız.

Verilen sayıları rakamlarla yazınız.

43.....
12.....
16.....






elli iki.....
on bir.....
on dokuz.....

Aşağıdaki toplama ve çıkarma işlemlerini zihinden yapınız.

$$70 - 20 = \dots\dots \quad 30 - 10 = \dots\dots \quad 70 - 40 = \dots\dots \quad 12 + 31 = \dots\dots$$

$$70 - 60 = \dots\dots \quad 14 + 14 = \dots\dots \quad 11 + 25 = \dots\dots \quad 11 + 34 = \dots\dots$$

Kutuların altına bilyelerin kaç onluk ve kaç birlikten oluştuğunu yazınız.



..... onluk + birlik

..... onluk + birlik

..... onluk + birlik

İkişer ritmik sayarken 8. söylediğimiz sayı kaçtır?

Beşer ritmik sayarken 7. söylediğimiz sayı kaçtır?

Üçer ritmik sayarken 6. söylediğimiz sayı kaçtır?

Üçer ritmik sayarken 9. söylediğimiz sayı kaçtır?

68, 70, 72, 74, 76, örüntüsünde noktalı yere kaç yazılmalıdır?

33, 30, 27, 24, 21, örüntüsünde noktalı yere kaç yazılmalıdır?

69, 67, 65, 63, 61, 60 örüntüsünü bozan sayıyı bulun.



MATEMATİK TEKRAR ÇALIŞMASI 2

Verilen sayıların okunuşlarını yazınız.

Verilen sayıları rakamlarla yazınız.

19.....
34.....
15.....






yetmiş
altmış iki.....
altmış üç.....

Aşağıdaki toplama ve çıkarma işlemlerini zihinden yapınız.

$$17 + 25 = \dots\dots \quad 90 - 30 = \dots\dots \quad 22 + 23 = \dots\dots \quad 20 + 17 = \dots\dots$$

$$10 + 16 = \dots\dots \quad 90 - 80 = \dots\dots \quad 40 - 10 = \dots\dots \quad 90 - 10 = \dots\dots$$

Kutuların altına bilyelerin kaç onluk ve kaç birlikten oluştuğunu yazınız.



..... onluk + birlik

..... onluk + birlik

..... onluk + birlik

Dörder ritmik sayarken 10. söylediğimiz sayı kaçtır?

Dörder ritmik sayarken 4. söylediğimiz sayı kaçtır?

Dörder ritmik sayarken 6. söylediğimiz sayı kaçtır?

Beşer ritmik sayarken 5. söylediğimiz sayı kaçtır?

60, 58, 56, 55, 52, 50 örüntüsünü bozan sayıyı bulun.

28, 33, 38, 43, 48, örüntüsünde noktalı yere kaç yazılmalıdır?

59, 57, 55, 53, 51, örüntüsünü devam ettirdiğinizde hangi sayıya ulaşırız?

