

MATEMATİK TEKRAR ÇALIŞMASI 2

Verilen sayıların okunuşlarını yazınız.

Verilen sayıları rakamlarla yazınız.

10.....



seksen altı.....

37.....

elli beş.....

24.....



elli dokuz.....

Aşağıdaki toplama ve çıkarma işlemlerini zihinden yapınız.

$$80 - 40 = \dots\dots \quad 17 + 29 = \dots\dots \quad 90 - 60 = \dots\dots \quad 11 + 36 = \dots\dots$$

$$13 + 19 = \dots\dots \quad 80 - 30 = \dots\dots \quad 23 + 11 = \dots\dots \quad 70 - 10 = \dots\dots$$

Kutuların altına bilyelerin kaç onluk ve kaç birlikten oluştuğunu yazınız.



..... onluk + birlik

..... onluk + birlik

..... onluk + birlik

Beşer ritmik sayarken 3. söylediğimiz sayı kaçtır?

İkişer ritmik sayarken 2. söylediğimiz sayı kaçtır?

Dörder ritmik sayarken 7. söylediğimiz sayı kaçtır?

Üçer ritmik sayarken 9. söylediğimiz sayı kaçtır?

16, 19, 22, 25, 30, 31 örüntüsünü bozan sayıyı bulun.

65, 63, 61, 59, 57, örüntüsünde noktalı yere kaç yazılmalıdır?

42, 39, 36, 33, 30, örüntüsünde noktalı yere kaç yazılmalıdır?

$$13 - 4 \quad 7 + \dots$$

$$15 - 4 \quad \dots + 8$$

MATEMATİK TEKRAR ÇALIŞMASI 2

Verilen sayıların okunuşlarını yazınız.

Verilen sayıları rakamlarla yazınız.

16.....



yirmi iki.....

17.....

seksen altı.....

14.....




yetmiş dört.....

Aşağıdaki toplama ve çıkarma işlemlerini zihinden yapınız.

$$20 + 14 = \dots\dots \quad 80 - 20 = \dots\dots \quad 90 - 60 = \dots\dots \quad 14 + 10 = \dots\dots$$

$$50 - 40 = \dots\dots \quad 19 + 17 = \dots\dots \quad 70 - 30 = \dots\dots \quad 12 + 26 = \dots\dots$$

Kutuların altına bilyelerin kaç onluk ve kaç birlikten oluştuğunu yazınız.



..... onluk + birlik

..... onluk + birlik

..... onluk + birlik

Dörder ritmik sayarken 2. söylediğimiz sayı kaçtır?

Dörder ritmik sayarken 7. söylediğimiz sayı kaçtır?

Üçer ritmik sayarken 5. söylediğimiz sayı kaçtır?

İkişer ritmik sayarken 5. söylediğimiz sayı kaçtır?

20, 24, 28, 32, 36, örüntüsünde noktalı yere kaç yazılmalıdır?

23, 26, 29, 32, 35, örüntüsünde noktalı yere kaç yazılmalıdır?

55, 59, 63, 67, 71, 77 örüntüsünü bozan sayıyı bulun.

$$1 + 7 \quad 6 + \dots$$

$$\dots - 12 \quad 11 - 5$$