

## MATEMATİK TEKRAR ÇALIŞMASI 2

Verilen sayıların okunuşlarını yazınız.

Verilen sayıları rakamlarla yazınız.

96.....



on sekiz.....

30.....

seksen altı.....

48.....



altmış iki.....

Aşağıdaki toplama ve çıkarma işlemlerini zihinden yapınız.

$$36 + 12 = \dots\dots \quad 90 - 60 = \dots\dots \quad 70 - 30 = \dots\dots \quad 21 + 25 = \dots\dots$$

$$14 + 18 = \dots\dots \quad 50 - 40 = \dots\dots \quad 15 + 24 = \dots\dots \quad 30 - 10 = \dots\dots$$

Kutuların altına bilyelerin kaç onluk ve kaç birlikten oluştuğunu yazınız.



..... onluk + ..... birlik

..... onluk + ..... birlik

..... onluk + ..... birlik

Beşer ritmik sayarken 3. söylediğimiz sayı kaçtır? .....

Dörder ritmik sayarken 2. söylediğimiz sayı kaçtır? .....

Beşer ritmik sayarken 10. söylediğimiz sayı kaçtır? .....

Beşer ritmik sayarken 4. söylediğimiz sayı kaçtır? .....

45, 49, 53, 57, 61, ..... örüntüsünü devam ettirdiğinizde hangi sayıya ulaşırsınız?

36, 41, 46, 51, 56, ..... örüntüsünde noktalı yere kaç yazılmalıdır?

18, 22, 26, 30, 37, 38 örüntüsünü bozan sayı hangisidir?



## MATEMATİK TEKRAR ÇALIŞMASI 2

Verilen sayıların okunuşlarını yazınız.

Verilen sayıları rakamlarla yazınız.

71.....



elli dokuz.....

65.....

on üç.....

35.....




altmış .....

Aşağıdaki toplama ve çıkarma işlemlerini zihinden yapınız.

$$15 + 30 = \dots\dots \quad 11 + 22 = \dots\dots \quad 50 - 40 = \dots\dots \quad 60 - 30 = \dots\dots$$

$$14 + 33 = \dots\dots \quad 10 + 25 = \dots\dots \quad 40 - 20 = \dots\dots \quad 90 - 10 = \dots\dots$$

Kutuların altına bilyelerin kaç onluk ve kaç birlikten oluştuğunu yazınız.



..... onluk + ..... birlik

..... onluk + ..... birlik

..... onluk + ..... birlik

Beşer ritmik sayarken 8. söylediğimiz sayı kaçtır? .....

İkişer ritmik sayarken 4. söylediğimiz sayı kaçtır? .....

Dörder ritmik sayarken 6. söylediğimiz sayı kaçtır? .....

İkişer ritmik sayarken 6. söylediğimiz sayı kaçtır? .....

4, 9, 14, 19, 24, ..... örüntüsünde noktalı yere kaç yazılmalıdır?

31, 27, 23, 19, 15, 14 örüntüsünü bozan sayı hangisidir?

61, 64, 67, 71, 73, 76 örüntüsünü bozan sayı hangisidir?

