






## MADENİ PARALAR ETKİNLİĞİ

Tablodan yararlanarak ismi verilen kişilerin kumbaralarındaki paralarının miktarlarını bulun.

						Toplam Para
Ömer	1	1	1	1	1	.....
Nisanur	1	1	2	1	3	.....
Tarik		2	1	1	1	.....
Şükriye	1			1	2	.....

## MADENİ PARALAR ETKİNLİĞİ

Tablodan yararlanarak ismi verilen kişilerin kumbaralarındaki paralarının miktarlarını bulun.

						Toplam Para
Zümra		1	4	1	2	.....
Deniz			2	2	2	.....
Yunus	1	1	1	1	2	.....
Ertuğrul	1	2	3	1	1	.....

## MADENİ PARALAR ETKİNLİĞİ

Tablodan yararlanarak ismi verilen kişilerin kumbaralarındaki paralarının miktarlarını bulun.

						Toplam Para
Mete	1	2	2	1	1	.....
Bünyamin	2	1	1	1	3	.....
Ertuğrul		2	1	2	1	.....
Şükriye				1	1	.....

## MADENİ PARALAR ETKİNLİĞİ

Tablodan yararlanarak ismi verilen kişilerin kumbaralarındaki paralarının miktarlarını bulun.

						Toplam Para
Eymen		2	2	2	3	.....
Bünyamin			2	2	3	.....
Sukeyna	2	2	2	2	2	.....
Ayşenaz		1	1	2	2	.....