











MADENİ PARALAR ETKİNLİĞİ

Tablodan yararlanarak ismi verilen kişilerin kumbaralarındaki paralarının miktarlarını bulun.

						Toplam Para
Ayşenaz	2			1	3
Mete			3	2	1
Yunus	1	2	3	2	1
Bünyamin		1	3	1	3

MADENİ PARALAR ETKİNLİĞİ

Tablodan yararlanarak ismi verilen kişilerin kumbaralarındaki paralarının miktarlarını bulun.

						Toplam Para
Ertuğrul	1			2	3
Mete			1	2	1
Betül	2		3	1	2
Deniz	2	1	4	2	1

MADENİ PARALAR ETKİNLİĞİ

Tablodan yararlanarak ismi verilen kişilerin kumbaralarındaki paralarının miktarlarını bulun.

						Toplam Para
Meyra	2	2	2	2	3
Emir			3	2	3
Bünyamin	2	2		2	2
Deniz			3	1	1

MADENİ PARALAR ETKİNLİĞİ

Tablodan yararlanarak ismi verilen kişilerin kumbaralarındaki paralarının miktarlarını bulun.

						Toplam Para
Mete	1	2		2	3
Sukeyna		1	1	2	3
Kayra	1	1	4	2	3
Kerem			3	2	3