







MADENİ PARALAR ETKİNLİĞİ

Tablodan yararlanarak ismi verilen kişilerin kumbaralarındaki paralarının miktarlarını bulun.

						Toplam Para
Zümra		1	3	2	3
Bünyamin		1	1	2	2
Sukeyna	1	2		1	1
Yunus		1	4	2	2

MADENİ PARALAR ETKİNLİĞİ

Tablodan yararlanarak ismi verilen kişilerin kumbaralarındaki paralarının miktarlarını bulun.

						Toplam Para
Zeynep	1		2	1	1
Ayşenaz	2	2	3	1	1
Kayra	1	2		1	3
Tarık			3	2	2

MADENİ PARALAR ETKİNLİĞİ

Tablodan yararlanarak ismi verilen kişilerin kumbaralarındaki paralarının miktarlarını bulun.

						Toplam Para
Bünyamin		1		1	1
Şükriye	2	2	2	2	3
Ayşenaz	2	1	2	2	2
Zeynep	1	1	3	1	3

MADENİ PARALAR ETKİNLİĞİ

Tablodan yararlanarak ismi verilen kişilerin kumbaralarındaki paralarının miktarlarını bulun.

						Toplam Para
Ertuğrul	2	2	2	2	1
Şükriye				1	3
Zeynep		1	4	2	2
Yunus	2	2	3	1	1