






MADENİ PARALAR ETKİNLİĞİ

Tablodan yararlanarak ismi verilen kişilerin kumbaralarındaki paralarının miktarlarını bulun.

						Toplam Para
Muhammed	2	2		2	3
Zümra	2		2	1	3
Kayra	1	1		2	3
Eymen	2	1	1	2	1

MADENİ PARALAR ETKİNLİĞİ

Tablodan yararlanarak ismi verilen kişilerin kumbaralarındaki paralarının miktarlarını bulun.

						Toplam Para
Bünyamin	2	2	2	2	3
Emir	2	1	1	1	1
Şükriye	2		3	2	1
Kayra	1	2	2	2	3

MADENİ PARALAR ETKİNLİĞİ

Tablodan yararlanarak ismi verilen kişilerin kumbaralarındaki paralarının miktarlarını bulun.

						Toplam Para
Ömer		2	2	2	1
Zümra		1	3	1	3
Kayra		2	2	1	2
Yunus	1	1	3	1	1

MADENİ PARALAR ETKİNLİĞİ

Tablodan yararlanarak ismi verilen kişilerin kumbaralarındaki paralarının miktarlarını bulun.

						Toplam Para
Meyra			2	1	3
Ömer	1		2	2	1
Zümra		2	4	1	2
Tank		2	1	2	1