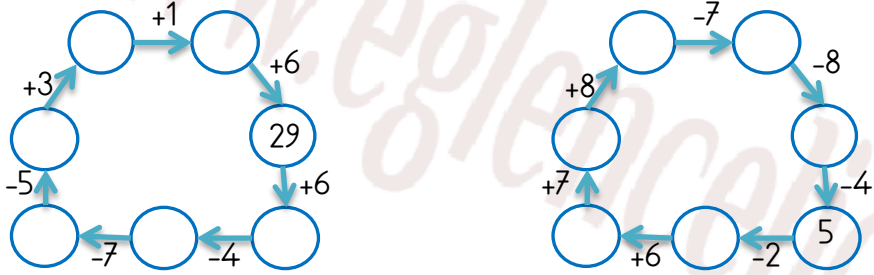


EĞLENCELİ MATEMATİK

Her katın toplamı apartman numarasını veriyor. Verilmeyen numaraları bulunuz.

13		30		23		37		44		20	
5		13		24		14			9		
21					28		20		14		
	33		6		15		8			16	

Verilen sayıdan başlayarak ok yönünde işlemleri yapın ve verilmeyen sayıları bulun.

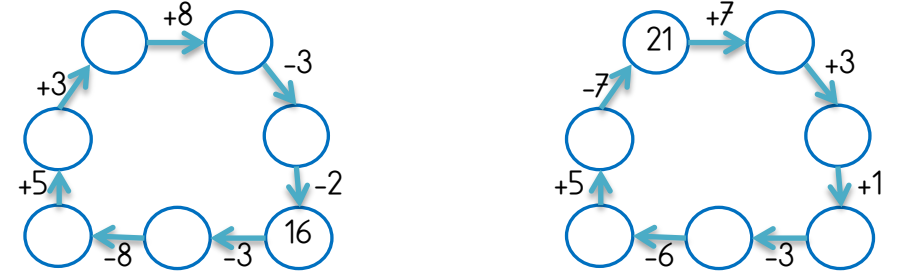


EĞLENCELİ MATEMATİK

Her katın toplamı apartman numarasını veriyor. Verilmeyen numaraları bulunuz.

10		8		28		27		24	
3		8		28			27	7	
	2	18	28	17		39		12	
	9	15		40	2	11	34		23

Verilen sayıdan başlayarak ok yönünde işlemleri yapın ve verilmeyen sayıları bulun.

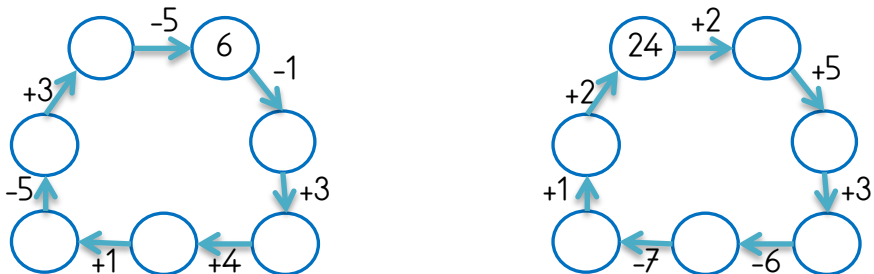


EĞLENCELİ MATEMATİK

Her katın toplamı apartman numarasını veriyor. Verilmeyen numaraları bulunuz.

15		25		39		27		16		18	
	11	28		38		16		25	33	12	
6	10	17	13	22	24		17		19		

Verilen sayıdan başlayarak ok yönünde işlemleri yapın ve verilmeyen sayıları bulun.



EĞLENCELİ MATEMATİK

Her katın toplamı apartman numarasını veriyor. Verilmeyen numaraları bulunuz.

1		42		40		35		28	
1	10	34	20	18			14		28
6			17	13		13		11	39
3			27	1		32			12

Verilen sayıdan başlayarak ok yönünde işlemleri yapın ve verilmeyen sayıları bulun.

