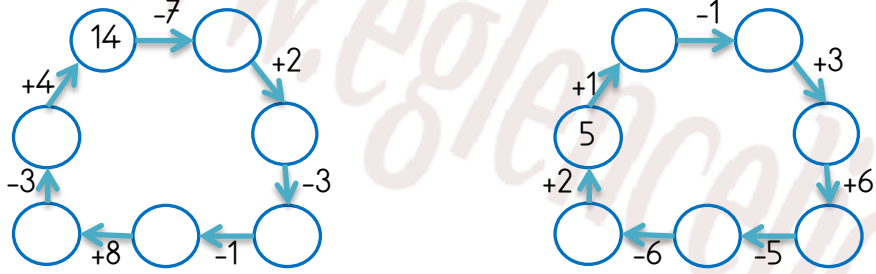


## EĞLENCELİ MATEMATİK

Her katın toplamı apartman numarasını veriyor. Verilmeyen numaraları bulunuz.

7		14		50		17		40	
		2			26			7	
	15	21	8	19			1		21
11		6		36		12	8	25	

Verilen sayıdan başlayarak ok yönünde işlemleri yapın ve verilmeyen sayıları bulun.

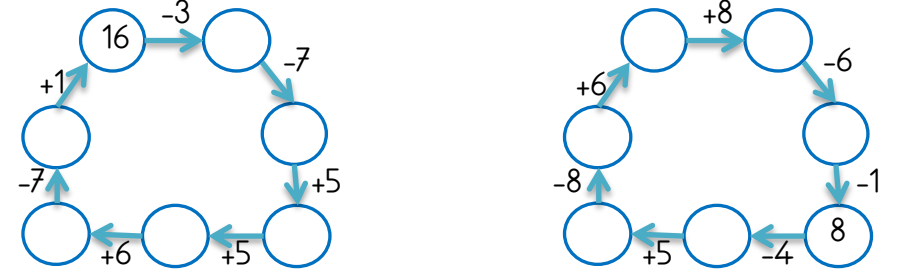


## EĞLENCELİ MATEMATİK

Her katın toplamı apartman numarasını veriyor. Verilmeyen numaraları bulunuz.

9		17		23		8		47	
			9	23	7	8		21	
5	5	7		13			3		18
	8		6		10	1	18	10	

Verilen sayıdan başlayarak ok yönünde işlemleri yapın ve verilmeyen sayıları bulun.

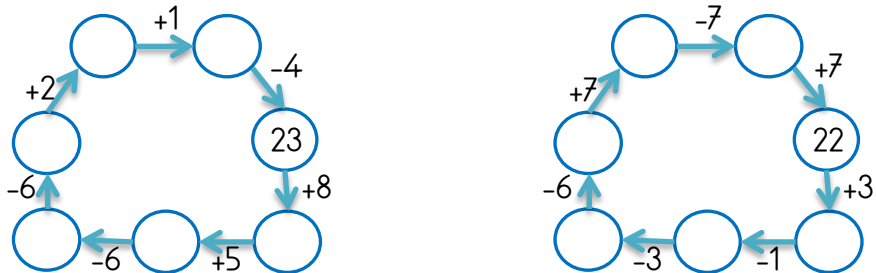


## EĞLENCELİ MATEMATİK

Her katın toplamı apartman numarasını veriyor. Verilmeyen numaraları bulunuz.

5		41		37		5		12	
	31	40			25		1		8
20	14	30		27		5			3
		2		9		17	3		6

Verilen sayıdan başlayarak ok yönünde işlemleri yapın ve verilmeyen sayıları bulun.



## EĞLENCELİ MATEMATİK

Her katın toplamı apartman numarasını veriyor. Verilmeyen numaraları bulunuz.

18		34		1		6		20	
	7	11		1	14		10	19	
23		6	16		9		27		12
1			4	5		22			11

Verilen sayıdan başlayarak ok yönünde işlemleri yapın ve verilmeyen sayıları bulun.

