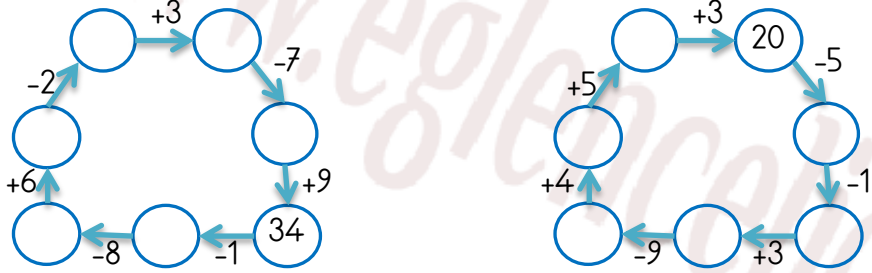


## EĞLENCELİ MATEMATİK

Her katın toplamı apartman numarasını veriyor. Verilmeyen numaraları bulunuz.

18		47		11	
5		2	18	35	
	3		8		25
	1	3		4	
			31		35
			40	23	13

Verilen sayıdan başlayarak ok yönünde işlemleri yapın ve verilmeyen sayıları bulun.

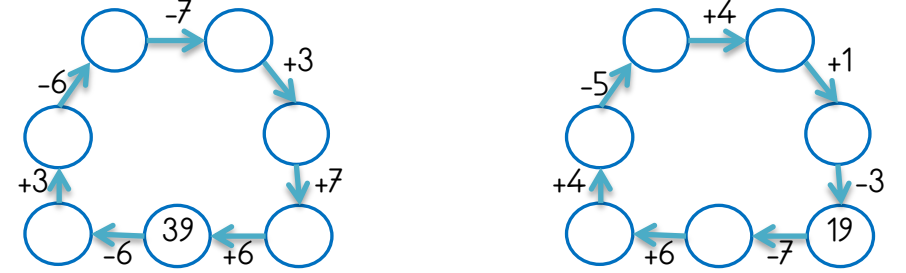


## EĞLENCELİ MATEMATİK

Her katın toplamı apartman numarasını veriyor. Verilmeyen numaraları bulunuz.

29		23		48	
23		1			34
	17	3	10	29	
24		8			36
			10		13
			17		38
			12	12	

Verilen sayıdan başlayarak ok yönünde işlemleri yapın ve verilmeyen sayıları bulun.

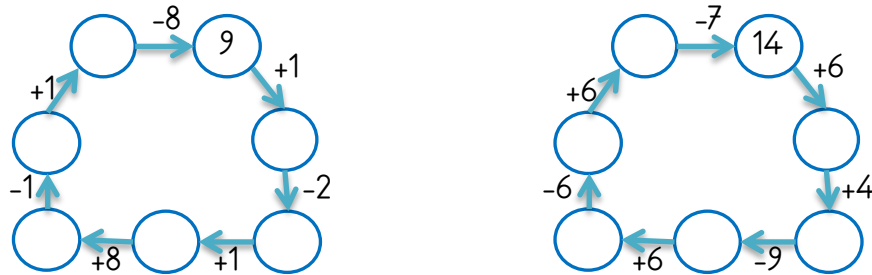


## EĞLENCELİ MATEMATİK

Her katın toplamı apartman numarasını veriyor. Verilmeyen numaraları bulunuz.

28		33		17		25	
16			6	7		10	
	1		3		15		16
20		17		2	14	4	
							9
							8
						2	

Verilen sayıdan başlayarak ok yönünde işlemleri yapın ve verilmeyen sayıları bulun.



## EĞLENCELİ MATEMATİK

Her katın toplamı apartman numarasını veriyor. Verilmeyen numaraları bulunuz.

17		39		24	
13	31	6		32	2
	35		1	19	
11		13		27	
			3		5
			17		
			25		
					1

Verilen sayıdan başlayarak ok yönünde işlemleri yapın ve verilmeyen sayıları bulun.

