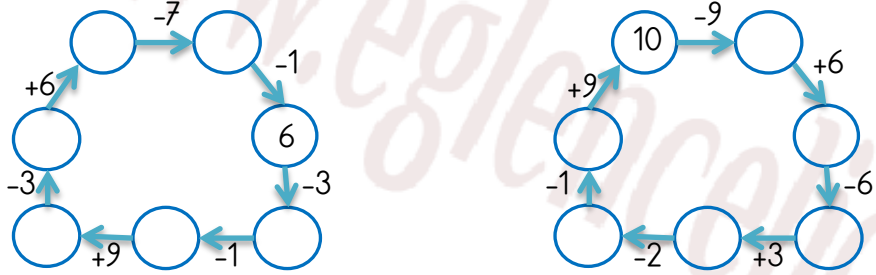


EĞLENCİLİ MATEMATİK

Her katın toplamı apartman numarasını veriyor. Verilmeyen numaraları bulunuz.

41		47		19		34	
	31	36		12		8	
35		7			2	20	2
	19	19			9	4	
							26

Verilen sayıdan başlayarak ok yönünde işlemleri yapın ve verilmeyen sayıları bulun.

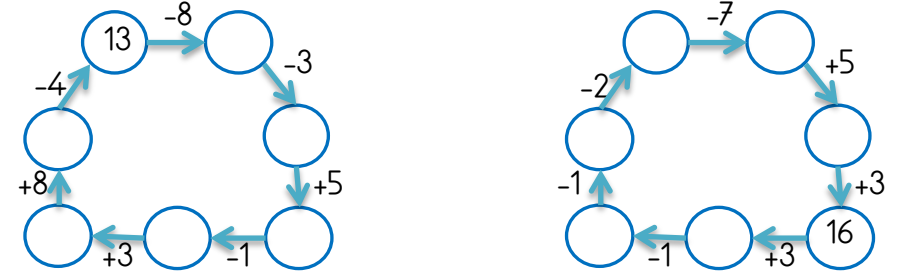


EĞLENCİLİ MATEMATİK

Her katın toplamı apartman numarasını veriyor. Verilmeyen numaraları bulunuz.

		28		18					
	15		15	5		1	28	21	21
	9		3	4			16	22	
23	25	11			1		21	33	

Verilen sayıdan başlayarak ok yönünde işlemleri yapın ve verilmeyen sayıları bulun.

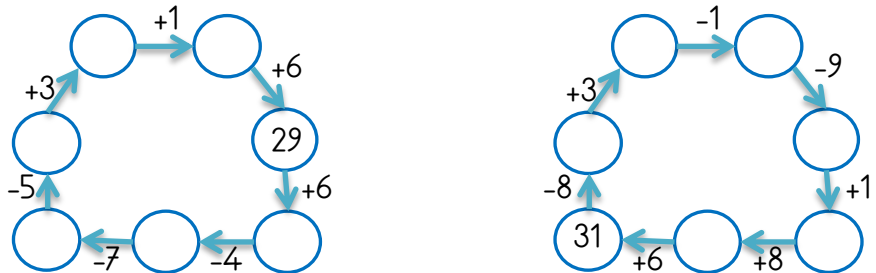


EĞLENCİLİ MATEMATİK

Her katın toplamı apartman numarasını veriyor. Verilmeyen numaraları bulunuz.

26		16		33		50		45	
		28		28			8		36
	31	30		38		14			28
	8		18		39	3	13	12	

Verilen sayıdan başlayarak ok yönünde işlemleri yapın ve verilmeyen sayıları bulun.



EĞLENCİLİ MATEMATİK

Her katın toplamı apartman numarasını veriyor. Verilmeyen numaraları bulunuz.

		21		14		12		50			
	15		14		5		25		13	35	
2	25		17	1			23		39		
	3		2	9			32		24		

Verilen sayıdan başlayarak ok yönünde işlemleri yapın ve verilmeyen sayıları bulun.

