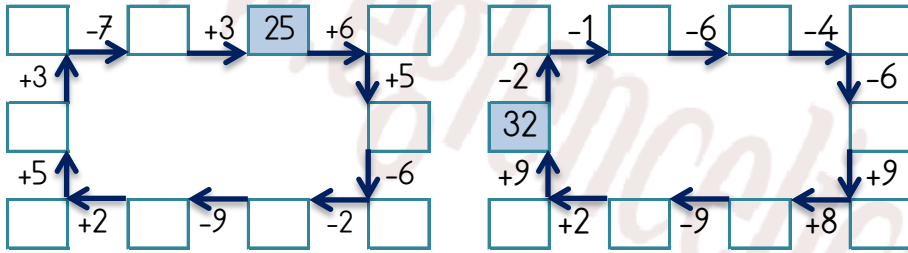


EĞLENCELİ MATEMATİK

Her katın toplamı apartman numarasını veriyor. Verilmeyen numaraları bulunuz.

19			30								
8	7		10		10	2	6	9	15		2
13	2			1	20	5	8			1	8
3		9		4	20	7		1	5	1	15

Verilen sayıdan başlayarak ok yönünde işlemleri yapın ve verilmeyen sayıları bulun.

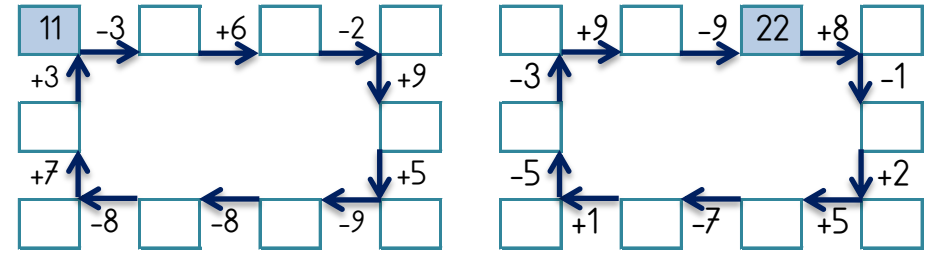


EĞLENCELİ MATEMATİK

Her katın toplamı apartman numarasını veriyor. Verilmeyen numaraları bulunuz.

			18								
6	4		7	4	2	6		7	6	13	1
4	10		1	5		1		16	9		10
13	5	3	3		1	1		10	2		4

Verilen sayıdan başlayarak ok yönünde işlemleri yapın ve verilmeyen sayıları bulun.

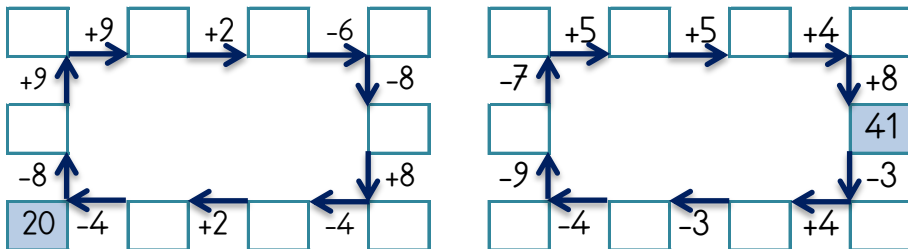


EĞLENCELİ MATEMATİK

Her katın toplamı apartman numarasını veriyor. Verilmeyen numaraları bulunuz.

4	10	11		17	9	2	10	7	10		4
2		17	7		6		6	12	2		10
8	6		10	13	4		1	8	4	2	9

Verilen sayıdan başlayarak ok yönünde işlemleri yapın ve verilmeyen sayıları bulun.



EĞLENCELİ MATEMATİK

Her katın toplamı apartman numarasını veriyor. Verilmeyen numaraları bulunuz.

17			11			29			14		
3		3	2	8		13		5	1		9
4		3	3		2		11	3		4	7
5		4		3	5	2		8	8	5	

Verilen sayıdan başlayarak ok yönünde işlemleri yapın ve verilmeyen sayıları bulun.

