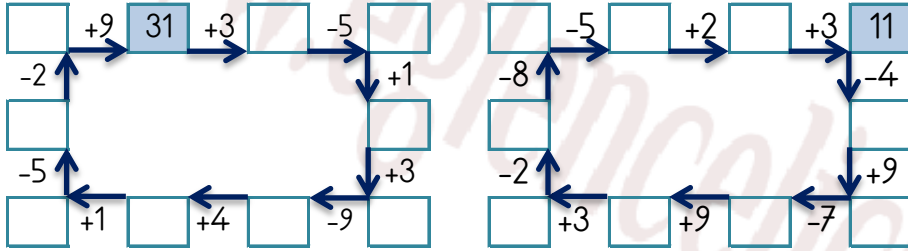


## EĞLENCELİ MATEMATİK

Her katın toplamı apartman numarasını veriyor. Verilmeyen numaraları bulunuz.

14											
4		2		8	2	8		1	5	6	7
1		9	17	2	2		3	6	8		3
3	4		1	7		1	7	2	3	13	

Verilen sayıdan başlayarak ok yönünde işlemleri yapın ve verilmeyen sayıları bulun.

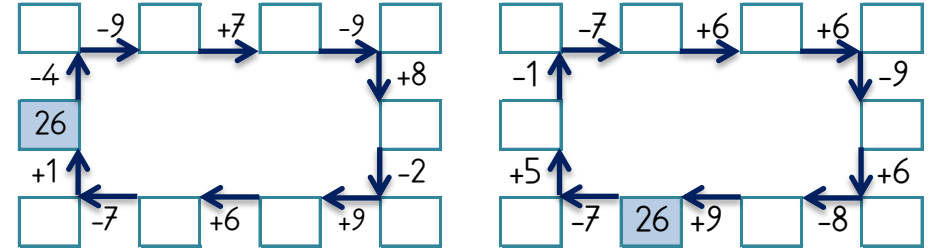


## EĞLENCELİ MATEMATİK

Her katın toplamı apartman numarasını veriyor. Verilmeyen numaraları bulunuz.

30			11						24		
15		14		8	2	15	3		1		9
	4	6		7	2	13		1		2	4
11		4		1	3	4	8	11		9	9

Verilen sayıdan başlayarak ok yönünde işlemleri yapın ve verilmeyen sayıları bulun.

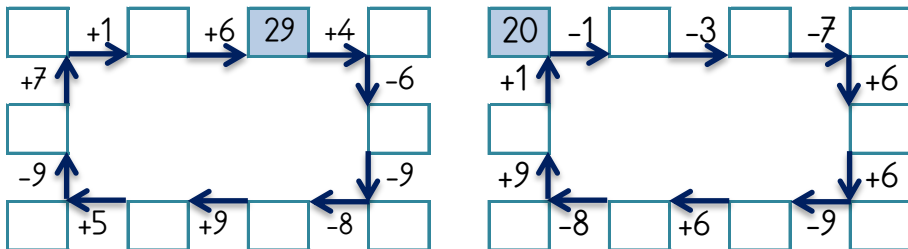


## EĞLENCELİ MATEMATİK

Her katın toplamı apartman numarasını veriyor. Verilmeyen numaraları bulunuz.

25											
	6	17		3	1	14	10			6	13
	2	13	3	12	9		17	7	10	1	9
2		20	10		3	1	12	13		7	6

Verilen sayıdan başlayarak ok yönünde işlemleri yapın ve verilmeyen sayıları bulun.



## EĞLENCELİ MATEMATİK

Her katın toplamı apartman numarasını veriyor. Verilmeyen numaraları bulunuz.

			17			18			12		
3	10	15	1		10	5	2		7		2
7		2	5	8		15		1	2	6	
3	5		4	7		1	12		8	2	

Verilen sayıdan başlayarak ok yönünde işlemleri yapın ve verilmeyen sayıları bulun.

