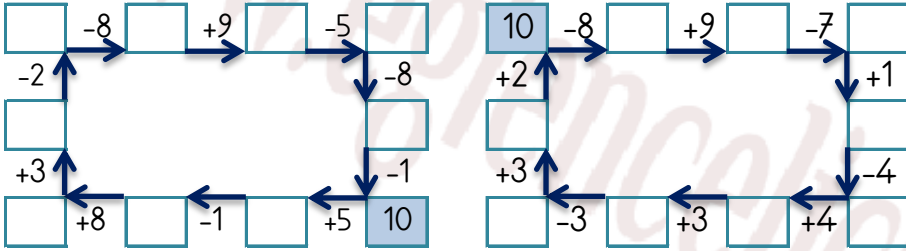


## EĞLENCELİ MATEMATİK

Her katın toplamı apartman numarasını veriyor. Verilmeyen numaraları bulunuz.

10	6		9	2	4	2	13	14	13	1	12
3	16	2	10	1		1		17		4	3
	16	1		3	11	10	10		2		17

Verilen sayıdan başlayarak ok yönünde işlemleri yapın ve verilmeyen sayıları bulun.

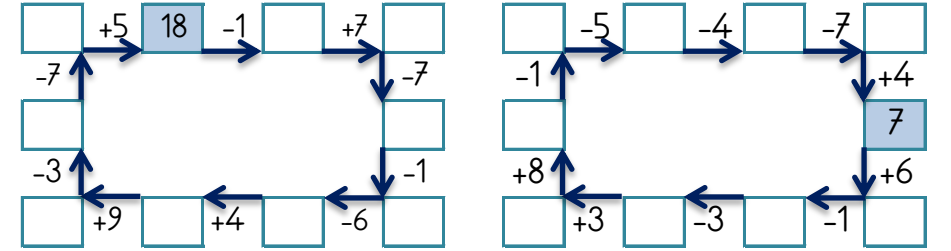


## EĞLENCELİ MATEMATİK

Her katın toplamı apartman numarasını veriyor. Verilmeyen numaraları bulunuz.

18			20								
	1	16	2		11	19		10		2	5
3	8		6		5	16	8	6	1	5	
	8	9	15	4		2		14	17	1	4

Verilen sayıdan başlayarak ok yönünde işlemleri yapın ve verilmeyen sayıları bulun.

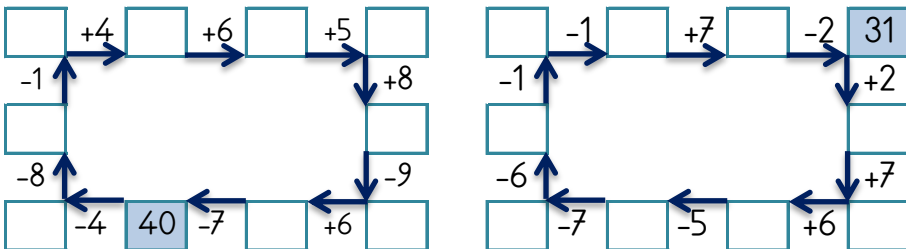


## EĞLENCELİ MATEMATİK

Her katın toplamı apartman numarasını veriyor. Verilmeyen numaraları bulunuz.

			25			27			24		
3	12		1	4			2	9	9		3
2	18		20		3	10		13	14	1	
5	9	12	5		6		5	2	18		3

Verilen sayıdan başlayarak ok yönünde işlemleri yapın ve verilmeyen sayıları bulun.



## EĞLENCELİ MATEMATİK

Her katın toplamı apartman numarasını veriyor. Verilmeyen numaraları bulunuz.

25			21								
3		10	9	7		7	1	4		5	2
2	10		7	10		3	3	5	3	2	6
3	9		4	1		2	5		2	8	

Verilen sayıdan başlayarak ok yönünde işlemleri yapın ve verilmeyen sayıları bulun.

