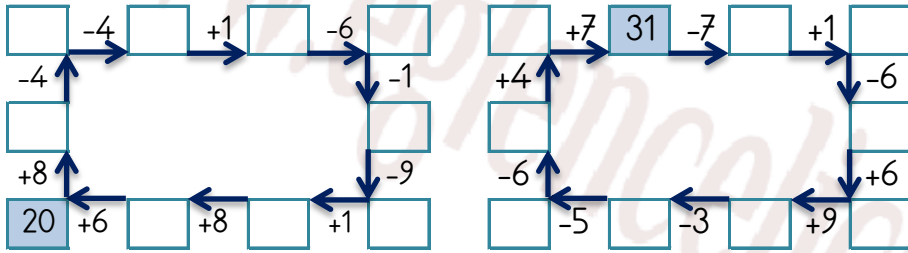


EĞLENCELİ MATEMATİK

Her katın toplamı apartman numarasını veriyor. Verilmeyen numaraları bulunuz.

8			10			18					
8	4		1	6		5	7		2	16	1
5	7	1	7	2		4	7		6		10
6		1	4	5		4	12			2	13

Verilen sayıdan başlayarak ok yönünde işlemleri yapın ve verilmeyen sayıları bulun.

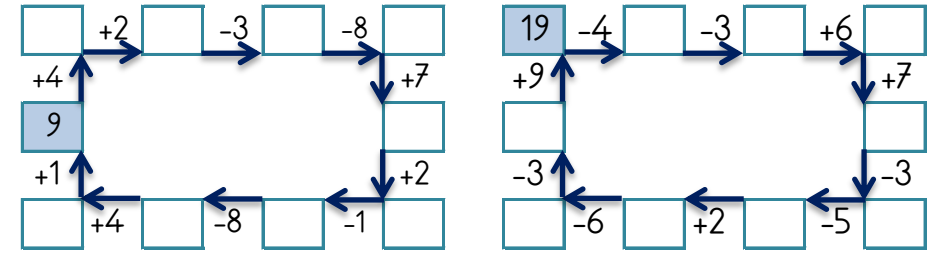


EĞLENCELİ MATEMATİK

Her katın toplamı apartman numarasını veriyor. Verilmeyen numaraları bulunuz.

18			14			21					
2		2		5	8	15		3	10	10	
14	3		2	5			5	3	8		1
13		4	1	11		10		8	11	8	6

Verilen sayıdan başlayarak ok yönünde işlemleri yapın ve verilmeyen sayıları bulun.

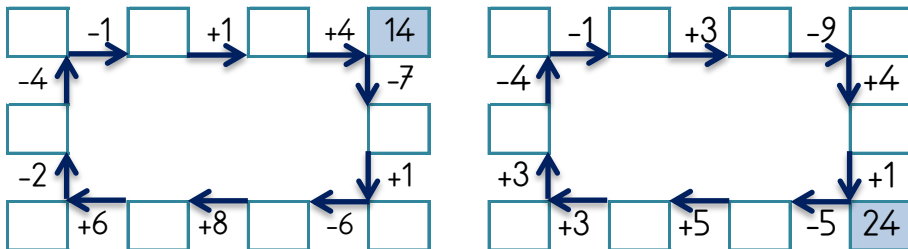


EĞLENCELİ MATEMATİK

Her katın toplamı apartman numarasını veriyor. Verilmeyen numaraları bulunuz.

13			12								
4		7		3	5	11	3	3	4		2
4	8			2	5		6	5	3	2	6
2	8		3		1		2	13	2	8	

Verilen sayıdan başlayarak ok yönünde işlemleri yapın ve verilmeyen sayıları bulun.



EĞLENCELİ MATEMATİK

Her katın toplamı apartman numarasını veriyor. Verilmeyen numaraları bulunuz.

27			17			13					
14	2		12	7	1	3		13		7	3
	7	18		13	5	13		2	2	5	
	7	5	6		8		4	3	4		4

Verilen sayıdan başlayarak ok yönünde işlemleri yapın ve verilmeyen sayıları bulun.

