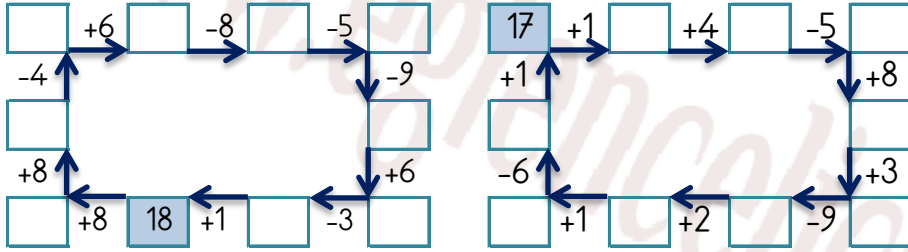


EĞLENCELİ MATEMATİK

Her katın toplamı apartman numarasını veriyor. Verilmeyen numaraları bulunuz.

23											
3	10		9	1	1	17	4	9	11	1	16
7	4		2		2		5	20	7	12	
14	2		6	2			9	14		14	12

Verilen sayıdan başlayarak ok yönünde işlemleri yapın ve verilmeyen sayıları bulun.

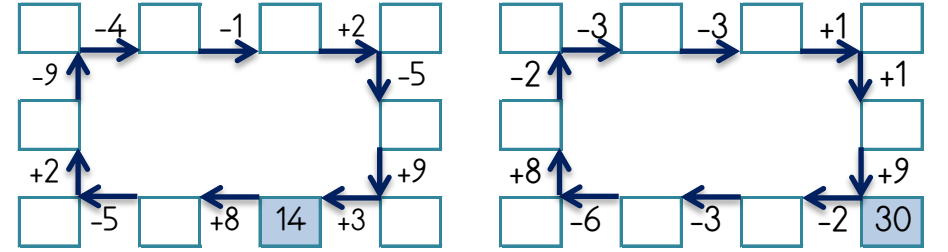


EĞLENCELİ MATEMATİK

Her katın toplamı apartman numarasını veriyor. Verilmeyen numaraları bulunuz.

									21		
2		12		8	12	4	7	3	11	4	
5	13	9	1	17	5		3	10		6	3
9	8			17	3	2		2	2	9	

Verilen sayıdan başlayarak ok yönünde işlemleri yapın ve verilmeyen sayıları bulun.

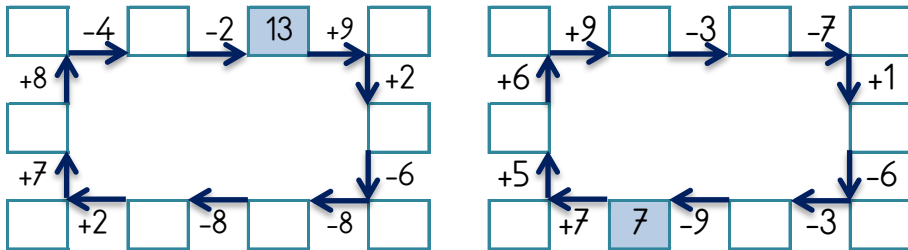


EĞLENCELİ MATEMATİK

Her katın toplamı apartman numarasını veriyor. Verilmeyen numaraları bulunuz.

						12					
	2	7		1	6		4	5	3		18
1	14		2		6	2		5	6	9	9
15	11	3	5	4	1	7		2	2	5	

Verilen sayıdan başlayarak ok yönünde işlemleri yapın ve verilmeyen sayıları bulun.



EĞLENCELİ MATEMATİK

Her katın toplamı apartman numarasını veriyor. Verilmeyen numaraları bulunuz.

									24		
	6	2	5	11	14	3		1	1		18
	1	14		9	13	4	1	6	15	2	
9	1	6	5		8	6		3		5	9

Verilen sayıdan başlayarak ok yönünde işlemleri yapın ve verilmeyen sayıları bulun.

