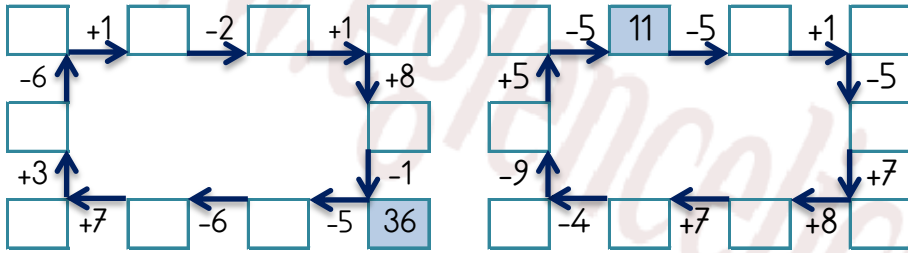


EĞLENCELİ MATEMATİK

Her katın toplamı apartman numarasını veriyor. Verilmeyen numaraları bulunuz.

16						25					
1		1	4	2	7	5	9		9	7	10
6		2	5	3		16		5	6	17	
1		2	6	6			16	1	12	13	

Verilen sayıdan başlayarak ok yönünde işlemleri yapın ve verilmeyen sayıları bulun.

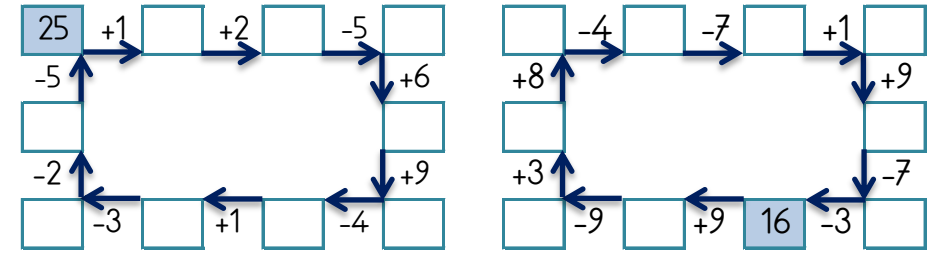


EĞLENCELİ MATEMATİK

Her katın toplamı apartman numarasını veriyor. Verilmeyen numaraları bulunuz.

			19			21					
	6	19	7	9		17	1		6	2	
	9	4	6		3		6	13	2	5	3
17	3	7	2	15		14	2		8		1

Verilen sayıdan başlayarak ok yönünde işlemleri yapın ve verilmeyen sayıları bulun.

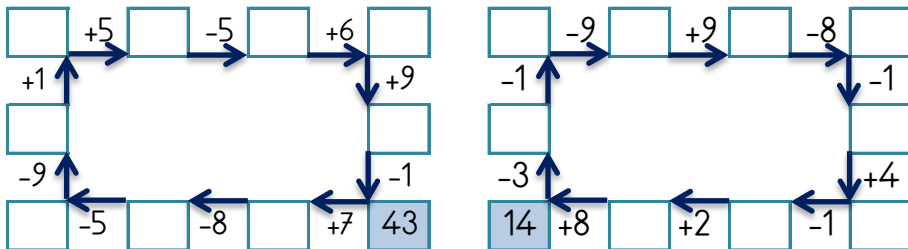


EĞLENCELİ MATEMATİK

Her katın toplamı apartman numarasını veriyor. Verilmeyen numaraları bulunuz.

			16								
6	16	1	13	2	6	10	4		6	17	2
7	9			14	3	3		5	9		4
17		5	2	2			4	3		9	13

Verilen sayıdan başlayarak ok yönünde işlemleri yapın ve verilmeyen sayıları bulun.



EĞLENCELİ MATEMATİK

Her katın toplamı apartman numarasını veriyor. Verilmeyen numaraları bulunuz.

28			19			30			26		
16		6	6		10	14	11		7		7
	10	9		1	9	7	9		1		6
20	1			1	1	13		11	14		8

Verilen sayıdan başlayarak ok yönünde işlemleri yapın ve verilmeyen sayıları bulun.

