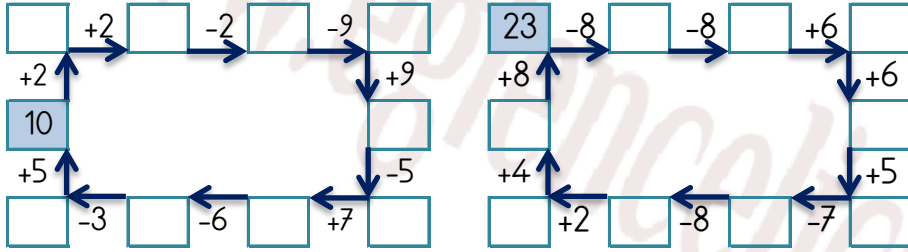


## EĞLENCELİ MATEMATİK

Her katın toplamı apartman numarasını veriyor. Verilmeyen numaraları bulunuz.

7			2			10			20		
7	2		3	8	12	5	4		4	2	
4	5	2		9	1	3		4	12	3	
3		5	1		5		6	3	1	10	

Verilen sayıdan başlayarak ok yönünde işlemleri yapın ve verilmeyen sayıları bulun.

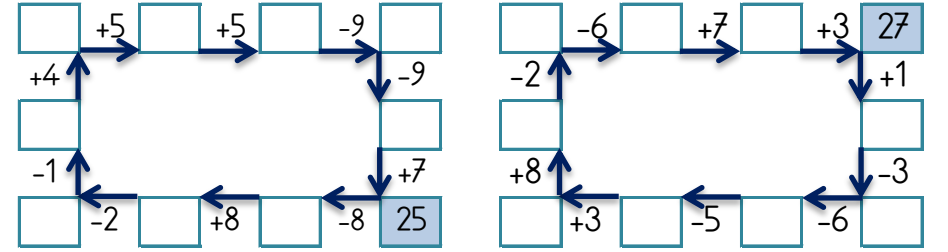


## EĞLENCELİ MATEMATİK

Her katın toplamı apartman numarasını veriyor. Verilmeyen numaraları bulunuz.

10			2			30			17			10		
10		2	4	10	2	10	13	3	17	10			6	5
11		5	1		8	12	6			6	5			
6	6	5	4		11		1	17	6		9			

Verilen sayıdan başlayarak ok yönünde işlemleri yapın ve verilmeyen sayıları bulun.

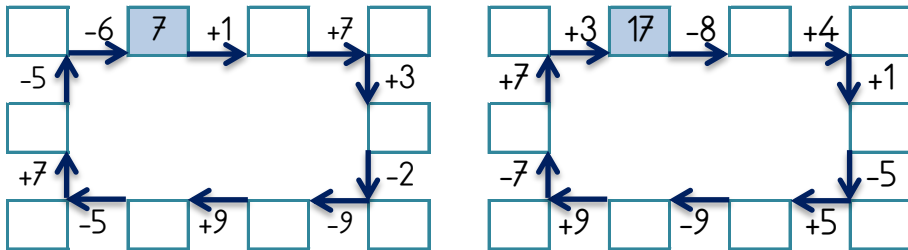


## EĞLENCELİ MATEMATİK

Her katın toplamı apartman numarasını veriyor. Verilmeyen numaraları bulunuz.

21			28			19			4			18		
1	2			5	10		19	4	2	11		2	11	
4	16		8	15		9	13	2	10	2		10	2	
	17	1		16	1	3	6		3		9	3		9

Verilen sayıdan başlayarak ok yönünde işlemleri yapın ve verilmeyen sayıları bulun.



## EĞLENCELİ MATEMATİK

Her katın toplamı apartman numarasını veriyor. Verilmeyen numaraları bulunuz.

5			8			30			19			24		
	5	8		10	19		19	4		7	14		7	14
8		6	7	8		6		14		13	2		13	2
8	4	3	12		14	20	2	3		15	1		15	1

Verilen sayıdan başlayarak ok yönünde işlemleri yapın ve verilmeyen sayıları bulun.

