


DORT İŞLEM PIRAMIDI

Piramitte iki sayı arasındaki işlemin sonucunu üst kutuya yazarak tepelerdeki sayılara ulaşın ve cevapları aşağıdan işaretleyin.



24 \div 4 $+$ 4 \times 8

15 \div 3 $+$ 3 \times 3


30 \div 6 $+$ 3 \times 3

9 \div 3 $+$ 5 \times 3

8 1 16 19 27 15

DORT İŞLEM PIRAMIDI

Piramitte iki sayı arasındaki işlemin sonucunu üst kutuya yazarak tepelerdeki sayılara ulaşın ve cevapları aşağıdan işaretleyin.



15 \div 3 $+$ 3 \times 5

18 \div 3 $+$ 3 \times 3


16 \div 4 $+$ 4 \times 4

25 \div 5 $+$ 3 \times 3

9 23 33 19 8 21

DORT İŞLEM PIRAMIDI

Piramitte iki sayı arasındaki işlemin sonucunu üst kutuya yazarak tepelerdeki sayılara ulaşın ve cevapları aşağıdan işaretleyin.



21 \div 3 $+$ 4 \times 4

12 \div 3 $+$ 4 \times 5


18 \div 3 $+$ 5 \times 3

15 \div 3 $+$ 6 \times 5

16 6 23 25 26 1

DORT İŞLEM PIRAMIDI

Piramitte iki sayı arasındaki işlemin sonucunu üst kutuya yazarak tepelerdeki sayılara ulaşın ve cevapları aşağıdan işaretleyin.



35 \div 5 $+$ 4 \times 8

40 \div 5 $+$ 4 \times 6

28 \div 4 $+$ 5 \times 8

24 \div 3 $+$ 4 \times 5

22 16 29 14 39 19