


## DORT İŞLEM PIRAMIDI

Piramitte iki sayı arasındaki işlemin sonucunu üst kutuya yazarak tepelerdeki sayılara ulaşın ve cevapları aşağıdan işaretleyin.



30  $\div$  5  $+$  4  $\times$  8

$\times$   $-$   $+$

35  $\div$  5  $+$  4  $\times$  5

12 34 19

30  $\div$  6  $+$  3  $\times$  8


$\times$   $-$   $+$

18  $\div$  3  $+$  3  $\times$  4

13 26 18

## DORT İŞLEM PIRAMIDI

Piramitte iki sayı arasındaki işlemin sonucunu üst kutuya yazarak tepelerdeki sayılara ulaşın ve cevapları aşağıdan işaretleyin.



42  $\div$  6  $+$  3  $\times$  6

$\times$   $-$   $+$

32  $\div$  4  $+$  3  $\times$  8

25 17 30

24  $\div$  4  $+$  5  $\times$  8


$\times$   $-$   $+$

24  $\div$  3  $+$  3  $\times$  4

14 5 36

## DORT İŞLEM PIRAMIDI

Piramitte iki sayı arasındaki işlemin sonucunu üst kutuya yazarak tepelerdeki sayılara ulaşın ve cevapları aşağıdan işaretleyin.



32  $\div$  4  $+$  3  $\times$  5

$\times$   $-$   $+$

20  $\div$  4  $+$  5  $\times$  6

36 34 6

24  $\div$  6  $+$  3  $\times$  8


$\times$   $-$   $+$

28  $\div$  4  $+$  3  $\times$  4

3 30 39

## DORT İŞLEM PIRAMIDI

Piramitte iki sayı arasındaki işlemin sonucunu üst kutuya yazarak tepelerdeki sayılara ulaşın ve cevapları aşağıdan işaretleyin.



18  $\div$  3  $+$  4  $\times$  7

$\times$   $-$   $+$

21  $\div$  3  $+$  4  $\times$  4

26 1 7

30  $\div$  6  $+$  3  $\times$  8

$\times$   $-$   $+$

12  $\div$  3  $+$  4  $\times$  5

9 16 12