


DORT İŞLEM PIRAMIDI

Piramitte iki sayı arasındaki işlemin sonucunu üst kutuya yazarak tepelerdeki sayılara ulaşın ve cevapları aşağıdan işaretleyin.



42 \div 6 $+$ 3 \times 8

24 \div 3 $+$ 5 \times 3


18 \div 3 $+$ 5 \times 5

20 \div 5 $+$ 3 \times 5

40 41 18 30 9 15

DORT İŞLEM PIRAMIDI

Piramitte iki sayı arasındaki işlemin sonucunu üst kutuya yazarak tepelerdeki sayılara ulaşın ve cevapları aşağıdan işaretleyin.



20 \div 4 $+$ 5 \times 6

16 \div 4 $+$ 3 \times 3


24 \div 4 $+$ 5 \times 5

32 \div 4 $+$ 3 \times 5

20 14 6 29 34 12

DORT İŞLEM PIRAMIDI

Piramitte iki sayı arasındaki işlemin sonucunu üst kutuya yazarak tepelerdeki sayılara ulaşın ve cevapları aşağıdan işaretleyin.



30 \div 5 $+$ 4 \times 5

48 \div 6 $+$ 3 \times 6


18 \div 3 $+$ 4 \times 5

32 \div 4 $+$ 3 \times 5

21 9 15 34 45 25

DORT İŞLEM PIRAMIDI

Piramitte iki sayı arasındaki işlemin sonucunu üst kutuya yazarak tepelerdeki sayılara ulaşın ve cevapları aşağıdan işaretleyin.



18 \div 3 $+$ 5 \times 5

15 \div 5 $+$ 3 \times 3

21 \div 3 $+$ 3 \times 6

25 \div 5 $+$ 3 \times 5

18 40 15 7 28 17