


DORT İŞLEM PIRAMIDI

Piramitte iki sayı arasındaki işlemin sonucunu üst kutuya yazarak tepelerdeki sayılara ulaşın ve cevapları aşağıdan işaretleyin.



24 \div 4 $+$ 4 \times 5

\times $-$ $+$

42 \div 6 $+$ 3 \times 6

\times $-$ $+$

12 \div 3 $+$ 6 \times 3


\times $-$ $+$

20 \div 4 $+$ 3 \times 7

14 20 36 7 15 9

DORT İŞLEM PIRAMIDI

Piramitte iki sayı arasındaki işlemin sonucunu üst kutuya yazarak tepelerdeki sayılara ulaşın ve cevapları aşağıdan işaretleyin.



24 \div 3 $+$ 5 \times 8

\times $-$ $+$

36 \div 6 $+$ 3 \times 8

\times $-$ $+$

24 \div 4 $+$ 3 \times 4


\times $-$ $+$

16 \div 4 $+$ 3 \times 3

21 23 12 16 38 34

DORT İŞLEM PIRAMIDI

Piramitte iki sayı arasındaki işlemin sonucunu üst kutuya yazarak tepelerdeki sayılara ulaşın ve cevapları aşağıdan işaretleyin.



32 \div 4 $+$ 3 \times 5

\times $-$ $+$

36 \div 6 $+$ 3 \times 6

\times $-$ $+$

28 \div 4 $+$ 5 \times 8


\times $-$ $+$

40 \div 5 $+$ 4 \times 8

34 27 14 31 9 12

DORT İŞLEM PIRAMIDI

Piramitte iki sayı arasındaki işlemin sonucunu üst kutuya yazarak tepelerdeki sayılara ulaşın ve cevapları aşağıdan işaretleyin.



30 \div 5 $+$ 3 \times 3

\times $-$ $+$

20 \div 4 $+$ 4 \times 6

\times $-$ $+$

28 \div 4 $+$ 4 \times 6

\times $-$ $+$

25 \div 5 $+$ 3 \times 4

20 42 24 40 31 8