


DORT İŞLEM PIRAMIDI

Piramitte iki sayı arasındaki işlemin sonucunu üst kutuya yazarak tepelerdeki sayılara ulaşın ve cevapları aşağıdan işaretleyin.



12 \div 3 $+$ 4 \times 4

28 \div 4 $+$ 3 \times 4


40 \div 5 $+$ 4 \times 3

24 \div 4 $+$ 3 \times 4

5 6 51 23 16 30

DORT İŞLEM PIRAMIDI

Piramitte iki sayı arasındaki işlemin sonucunu üst kutuya yazarak tepelerdeki sayılara ulaşın ve cevapları aşağıdan işaretleyin.



24 \div 3 $+$ 5 \times 5

15 \div 3 $+$ 5 \times 5


18 \div 3 $+$ 4 \times 3

25 \div 5 $+$ 4 \times 8

12 16 7 31 4 23

DORT İŞLEM PIRAMIDI

Piramitte iki sayı arasındaki işlemin sonucunu üst kutuya yazarak tepelerdeki sayılara ulaşın ve cevapları aşağıdan işaretleyin.



30 \div 6 $+$ 3 \times 6

18 \div 3 $+$ 3 \times 5


28 \div 4 $+$ 3 \times 6

25 \div 5 $+$ 3 \times 6

8 14 7 24 15 18

DORT İŞLEM PIRAMIDI

Piramitte iki sayı arasındaki işlemin sonucunu üst kutuya yazarak tepelerdeki sayılara ulaşın ve cevapları aşağıdan işaretleyin.



42 \div 6 $+$ 3 \times 6

28 \div 4 $+$ 5 \times 8

32 \div 4 $+$ 3 \times 5

30 \div 6 $+$ 3 \times 6

34 14 36 6 18 12