


DORT İŞLEM PIRAMIDI

Piramitte iki sayı arasındaki işlemin sonucunu üst kutuya yazarak tepelerdeki sayılara ulaşın ve cevapları aşağıdan işaretleyin.



16 \div 4 $+$ 4 \times 4

\times $-$ $+$

35 \div 5 $+$ 3 \times 8

\times $-$ $+$

32 \div 4 $+$ 3 \times 6

\times $-$ $+$

8 24 27


30 \div 6 $+$ 3 \times 3

\times $-$ $+$

16 20 31

DORT İŞLEM PIRAMIDI

Piramitte iki sayı arasındaki işlemin sonucunu üst kutuya yazarak tepelerdeki sayılara ulaşın ve cevapları aşağıdan işaretleyin.



40 \div 5 $+$ 3 \times 5

\times $-$ $+$

20 \div 5 $+$ 3 \times 5

\times $-$ $+$

21 \div 3 $+$ 5 \times 4

\times $-$ $+$

10 8 9


28 \div 4 $+$ 4 \times 6

\times $-$ $+$

28 41 44

DORT İŞLEM PIRAMIDI

Piramitte iki sayı arasındaki işlemin sonucunu üst kutuya yazarak tepelerdeki sayılara ulaşın ve cevapları aşağıdan işaretleyin.



30 \div 6 $+$ 3 \times 6

\times $-$ $+$

20 \div 4 $+$ 3 \times 8

\times $-$ $+$

18 \div 3 $+$ 3 \times 7

\times $-$ $+$

18 9 4


24 \div 3 $+$ 3 \times 7

\times $-$ $+$

21 6 36

DORT İŞLEM PIRAMIDI

Piramitte iki sayı arasındaki işlemin sonucunu üst kutuya yazarak tepelerdeki sayılara ulaşın ve cevapları aşağıdan işaretleyin.



40 \div 5 $+$ 4 \times 8

\times $-$ $+$

32 \div 4 $+$ 5 \times 3

\times $-$ $+$

30 \div 5 $+$ 4 \times 5

\times $-$ $+$

6 12 30

16 \div 4 $+$ 5 \times 3

\times $-$ $+$

48 25 31