


DORT İŞLEM PIRAMIDI

Piramitte iki sayı arasındaki işlemin sonucunu üst kutuya yazarak tepelerdeki sayılara ulaşın ve cevapları aşağıdan işaretleyin.



30 \div 5 $+$ 4 \times 5

12 \div 3 $+$ 6 \times 3


42 \div 6 $+$ 3 \times 7

12 \div 4 $+$ 3 \times 4

9 6 2 33 34 25

DORT İŞLEM PIRAMIDI

Piramitte iki sayı arasındaki işlemin sonucunu üst kutuya yazarak tepelerdeki sayılara ulaşın ve cevapları aşağıdan işaretleyin.



18 \div 3 $+$ 5 \times 5

32 \div 4 $+$ 3 \times 7


28 \div 4 $+$ 3 \times 8

25 \div 5 $+$ 4 \times 8

12 18 14 28 4 15

DORT İŞLEM PIRAMIDI

Piramitte iki sayı arasındaki işlemin sonucunu üst kutuya yazarak tepelerdeki sayılara ulaşın ve cevapları aşağıdan işaretleyin.



20 \div 4 $+$ 4 \times 7

42 \div 6 $+$ 3 \times 7


21 \div 3 $+$ 5 \times 7

25 \div 5 $+$ 4 \times 7

33 4 13 11 8 15

DORT İŞLEM PIRAMIDI

Piramitte iki sayı arasındaki işlemin sonucunu üst kutuya yazarak tepelerdeki sayılara ulaşın ve cevapları aşağıdan işaretleyin.



40 \div 5 $+$ 4 \times 3

15 \div 3 $+$ 5 \times 4

20 \div 4 $+$ 5 \times 6

30 \div 5 $+$ 4 \times 5

25 12 6 36 51 10