


DORT İŞLEM PIRAMIDI

Piramitte iki sayı arasındaki işlemin sonucunu üst kutuya yazarak tepelerdeki sayılara ulaşın ve cevapları aşağıdan işaretleyin.



32 \div 4 $+$ 4 \times 8

18 \div 3 $+$ 5 \times 5


20 \div 5 $+$ 4 \times 6

25 \div 5 $+$ 4 \times 8

28 4 15 24 3 27

DORT İŞLEM PIRAMIDI

Piramitte iki sayı arasındaki işlemin sonucunu üst kutuya yazarak tepelerdeki sayılara ulaşın ve cevapları aşağıdan işaretleyin.



40 \div 5 $+$ 4 \times 4

16 \div 4 $+$ 3 \times 3


36 \div 6 $+$ 3 \times 6

21 \div 3 $+$ 4 \times 8

10 7 12 4 47 27

DORT İŞLEM PIRAMIDI

Piramitte iki sayı arasındaki işlemin sonucunu üst kutuya yazarak tepelerdeki sayılara ulaşın ve cevapları aşağıdan işaretleyin.



32 \div 4 $+$ 4 \times 8

35 \div 5 $+$ 4 \times 8


28 \div 4 $+$ 3 \times 5

24 \div 4 $+$ 3 \times 4

12 27 7 23 22 24

DORT İŞLEM PIRAMIDI

Piramitte iki sayı arasındaki işlemin sonucunu üst kutuya yazarak tepelerdeki sayılara ulaşın ve cevapları aşağıdan işaretleyin.



20 \div 5 $+$ 3 \times 4

28 \div 4 $+$ 5 \times 7

18 \div 3 $+$ 4 \times 6

24 \div 4 $+$ 5 \times 4

8 15 25 12 19 11