


DORT İŞLEM PIRAMIDI

Piramitte iki sayı arasındaki işlemin sonucunu üst kutuya yazarak tepelerdeki sayılara ulaşın ve cevapları aşağıdan işaretleyin.



20 \div 4 $+$ 3 \times 8

32 \div 4 $+$ 4 \times 3


18 \div 3 $+$ 4 \times 5

30 \div 5 $+$ 3 \times 6

44 30 15 26 4 22

DORT İŞLEM PIRAMIDI

Piramitte iki sayı arasındaki işlemin sonucunu üst kutuya yazarak tepelerdeki sayılara ulaşın ve cevapları aşağıdan işaretleyin.



30 \div 5 $+$ 4 \times 5

24 \div 3 $+$ 6 \times 4


48 \div 6 $+$ 3 \times 5

28 \div 4 $+$ 5 \times 7

3 48 25 19 39 27

DORT İŞLEM PIRAMIDI

Piramitte iki sayı arasındaki işlemin sonucunu üst kutuya yazarak tepelerdeki sayılara ulaşın ve cevapları aşağıdan işaretleyin.



24 \div 3 $+$ 4 \times 5

24 \div 6 $+$ 3 \times 7


36 \div 6 $+$ 3 \times 5

21 \div 3 $+$ 4 \times 7

29 6 9 14 30 12

DORT İŞLEM PIRAMIDI

Piramitte iki sayı arasındaki işlemin sonucunu üst kutuya yazarak tepelerdeki sayılara ulaşın ve cevapları aşağıdan işaretleyin.



21 \div 3 $+$ 6 \times 4

24 \div 3 $+$ 6 \times 6

30 \div 5 $+$ 3 \times 6

12 \div 3 $+$ 6 \times 4

3 27 30 9 22 12