


## DORT İŞLEM PIRAMIDI

Piramitte iki sayı arasındaki işlemin sonucunu üst kutuya yazarak tepelerdeki sayılara ulaşın ve cevapları aşağıdan işaretleyin.



20  $\div$  4  $+$  5  $\times$  5

30  $\div$  5  $+$  4  $\times$  5


28  $\div$  4  $+$  4  $\times$  5

12  $\div$  3  $+$  6  $\times$  3

25 4 28 9 11 13

## DORT İŞLEM PIRAMIDI

Piramitte iki sayı arasındaki işlemin sonucunu üst kutuya yazarak tepelerdeki sayılara ulaşın ve cevapları aşağıdan işaretleyin.



32  $\div$  4  $+$  3  $\times$  3

35  $\div$  5  $+$  3  $\times$  4


42  $\div$  6  $+$  3  $\times$  8

21  $\div$  3  $+$  4  $\times$  4

4 40 15 36 30 26

## DORT İŞLEM PIRAMIDI

Piramitte iki sayı arasındaki işlemin sonucunu üst kutuya yazarak tepelerdeki sayılara ulaşın ve cevapları aşağıdan işaretleyin.



15  $\div$  3  $+$  5  $\times$  5

18  $\div$  3  $+$  3  $\times$  4


12  $\div$  3  $+$  6  $\times$  3

28  $\div$  4  $+$  5  $\times$  8

14 18 9 29 2 7

## DORT İŞLEM PIRAMIDI

Piramitte iki sayı arasındaki işlemin sonucunu üst kutuya yazarak tepelerdeki sayılara ulaşın ve cevapları aşağıdan işaretleyin.



15  $\div$  3  $+$  4  $\times$  4

24  $\div$  3  $+$  3  $\times$  6

36  $\div$  6  $+$  3  $\times$  3

32  $\div$  4  $+$  5  $\times$  5

36 24 38 13 33 12