

TOPLAMI 10 OLAN SAYILAR

Her bir tabloda toplamı on olan ikilileri boyayarak tabloda son sayı kalana kadar devam et. Kullanmadığın sayıyı noktalı yere yaz.

3	5	3	7	5	
9	3	5	3	9	
.....	1	3	5	3	7
5	7	1	9	9	
7	1	7	7	5	


4	3	4	1	9
7	7	9	4	9
3	1	1	1	6
3	1	1	6	4
6	9	9	6	9

.....

2	9	1	3	5	
2	2	4	6	8	
.....	8	4	5	8	2
7	8	3	3	6	
2	4	7	6	8	

8	6	6	6	5
4	4	2	2	6
5	5	1	6	5
9	9	5	8	1
4	4	2	4	8

.....



TOPLAMI 10 OLAN SAYILAR

Her bir tabloda toplamı on olan ikilileri boyayarak tabloda son sayı kalana kadar devam et. Kullanmadığın sayıyı noktalı yere yaz.

2	2	2	8	8	
6	2	8	6	3	
.....	4	8	4	2	1
2	4	4	7	8	
6	6	7	8	3	


4	5	8	4	3
8	2	2	1	5
3	7	7	8	3
4	6	9	4	6
2	6	7	7	6

.....

4	7	3	2	3	
2	2	8	3	3	
.....	7	7	8	8	9
5	6	1	7	9	
8	3	2	1	5	

3	8	2	9	4
5	2	1	4	2
9	6	2	1	4
8	5	6	7	3
8	7	7	3	6

.....



TOPLAMI 10 OLAN SAYILAR

Her bir tabloda toplamı on olan ikilileri boyayarak tabloda son sayı kalana kadar devam et. Kullanmadığın sayıyı noktalı yere yaz.

4	4	7	3	3	
5	4	7	7	8	
.....	9	6	1	7	3
5	5	9	5	3	
6	1	2	6	4	


6	7	9	9	4
3	2	8	4	6
1	4	8	4	6
1	7	6	1	9
3	3	2	3	7

.....

6	4	2	2	7	
7	7	8	4	9	
.....	7	6	2	2	2
4	1	8	8	8	
8	3	3	3	6	

5	9	1	7	4
9	3	3	1	5
1	3	7	1	3
6	7	7	9	7
3	7	9	3	3

.....



TOPLAMI 10 OLAN SAYILAR

Her bir tabloda toplamı on olan ikilileri boyayarak tabloda son sayı kalana kadar devam et. Kullanmadığın sayıyı noktalı yere yaz.

5	9	7	1	1	
7	8	5	2	3	
.....	7	5	8	9	2
7	6	3	3	1	
5	9	4	3	8	

2	1	7	2	7
3	7	8	2	1
2	9	3	8	1
9	4	8	1	2
8	9	3	8	6

.....

7	2	6	8	4	
3	3	3	1	1	
.....	7	4	9	1	9
9	7	6	1	9	
2	6	3	4	7	

4	5	4	5	2
7	2	3	6	8
8	4	7	4	5
6	5	2	6	3
4	7	6	8	3

.....

