

## TOPLAMI 10 OLAN SAYILAR

Her bir tabloda toplamı on olan ikilileri boyayarak tabloda son sayı kalana kadar devam et. Kullanmadığın sayıyı noktalı yere yaz.

6	4	4	9	6
5	6	3	4	2
9	7	7	4	3
6	2	1	4	6
2	5	8	8	1

.....

2	2	8	8	6
7	7	5	3	3
8	4	8	3	4
3	6	5	7	1
2	9	6	2	7


.....

2	6	2	8	5
7	2	9	4	2
4	1	9	7	3
8	8	4	8	5
3	4	1	6	6

.....

2	3	4	2	3
7	9	4	5	5
2	5	1	7	6
4	6	6	1	8
9	5	5	5	8

.....



## TOPLAMI 10 OLAN SAYILAR

Her bir tabloda toplamı on olan ikilileri boyayarak tabloda son sayı kalana kadar devam et. Kullanmadığın sayıyı noktalı yere yaz.

2	7	1	6	3
8	5	4	4	6
1	5	2	2	3
8	7	4	9	6
9	7	8	8	2

.....

7	6	7	6	6
3	9	2	4	3
8	4	6	6	3
7	1	9	7	1
4	4	4	5	3


.....

5	9	1	9	1
9	1	7	3	7
7	9	3	3	1
7	9	1	1	4
3	6	9	5	9

.....

3	2	3	7	5
7	4	4	6	2
5	8	1	3	7
3	7	7	9	2
6	8	8	6	4

.....



## TOPLAMI 10 OLAN SAYILAR

Her bir tabloda toplamı on olan ikilileri boyayarak tabloda son sayı kalana kadar devam et. Kullanmadığın sayıyı noktalı yere yaz.

8	4	2	3	6
1	8	7	8	2
6	7	6	3	4
9	1	9	2	3
8	2	4	6	4

.....

4	8	6	8	3
9	1	8	4	2
9	8	7	2	6
5	3	3	2	7
1	7	5	2	1


.....

3	2	4	2	4
7	7	6	3	5
2	4	6	6	1
9	4	9	6	6
8	8	4	1	8

.....

8	7	6	3	4
7	8	2	3	8
6	2	6	4	2
1	5	2	9	1
8	4	7	5	9

.....



## TOPLAMI 10 OLAN SAYILAR

Her bir tabloda toplamı on olan ikilileri boyayarak tabloda son sayı kalana kadar devam et. Kullanmadığın sayıyı noktalı yere yaz.

2	4	2	3	8
1	2	8	5	9
7	8	3	7	9
8	6	5	1	3
2	9	7	5	1

.....

4	7	6	9	3
6	8	1	2	6
4	2	1	9	9
3	1	6	8	2
7	8	4	7	3

.....

9	5	6	3	4
5	3	1	7	8
6	8	5	3	4
7	4	7	7	3
5	6	2	9	1

.....

4	9	8	2	2
1	9	3	4	5
6	2	9	7	8
5	8	1	8	2
8	9	6	1	2

.....

