

## TOPLAMI 10 OLAN SAYILAR

Her bir tabloda toplamı on olan ikilileri boyayarak tabloda son sayı kalana kadar devam et. Kullanmadığın sayıyı noktalı yere yaz.

9	3	7	8	5	
1	9	2	4	9	
.....	1	6	4	1	8
6	2	5	2	4	
6	9	1	3	7	


2	3	7	9	2
7	5	9	1	8
4	6	5	1	6
2	2	5	8	8
8	4	5	9	1

.....

8	3	1	2	3	
4	3	3	4	3	
.....	7	6	7	7	6
7	7	7	9	6	
7	3	7	3	4	

2	5	5	1	9
5	6	4	2	6
9	5	2	6	4
4	8	8	1	8
1	4	6	9	8

.....



## TOPLAMI 10 OLAN SAYILAR

Her bir tabloda toplamı on olan ikilileri boyayarak tabloda son sayı kalana kadar devam et. Kullanmadığın sayıyı noktalı yere yaz.

9	7	5	1	3	
1	1	9	1	1	
.....	8	5	9	2	5
3	6	9	5	2	
5	8	9	5	7	


8	2	4	7	1
1	4	5	5	5
9	6	9	7	6
7	3	4	4	7
3	6	5	3	3

.....

4	5	5	3	3	
1	1	3	9	8	
.....	7	5	6	2	5
7	7	1	5	3	
5	5	9	5	9	

1	4	3	9	1
6	6	4	3	9
1	4	6	6	3
4	9	6	9	7
1	6	7	4	7

.....



## TOPLAMI 10 OLAN SAYILAR

Her bir tabloda toplamı on olan ikilileri boyayarak tabloda son sayı kalana kadar devam et. Kullanmadığın sayıyı noktalı yere yaz.

7	7	3	8	4	
2	6	1	2	3	
.....	6	7	4	2	3
8	7	6	4	3	
6	8	9	2	4	


8	9	3	9	3
6	2	1	8	8
7	7	4	8	1
9	3	1	2	2
7	6	2	9	1

.....

3	1	9	5	3	
5	9	7	7	5	
.....	7	5	7	6	4
1	1	9	6	1	
9	3	5	4	3	

5	9	6	7	6
5	8	4	7	9
2	1	3	8	4
5	5	5	7	3
6	4	1	2	3

.....



## TOPLAMI 10 OLAN SAYILAR

Her bir tabloda toplamı on olan ikilileri boyayarak tabloda son sayı kalana kadar devam et. Kullanmadığın sayıyı noktalı yere yaz.

6	9	1	1	8	
2	9	2	9	8	
.....	9	4	8	1	1
1	9	6	9	4	
4	2	5	1	5	

4	3	1	9	4
3	5	5	5	9
5	1	5	7	9
5	2	4	8	7
6	6	5	6	1

.....

3	9	5	7	9	
9	4	2	5	7	
.....	3	1	7	9	1
5	8	9	6	1	
4	3	6	1	5	

5	7	4	6	2
2	5	8	3	4
5	6	8	7	3
3	4	7	5	7
6	4	6	3	2

.....

