

## RESİM KÖŞESİ

### Kitapçık Hakkında

Bu kitapçıkta konu tekrarı amaçlı etkinlikler ve dikkat geliştirici eğlenceli çalışmalar bulunmaktadır. Yönergeler veliler ve öğretmenler için hazırlandığından küçük puntolarla yazılmıştır. Faydalı olması dileğiyle.

Kontrol Edenin Adı ..... İmzası .....

# 1. SINIF EĞLENCELİ ÇALIŞMALAR 8

18 Eğlenceli Çalışma

6 Problem



[www.eglencelicalismalar.com](http://www.eglencelicalismalar.com)

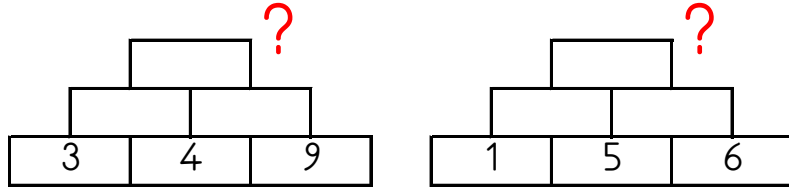
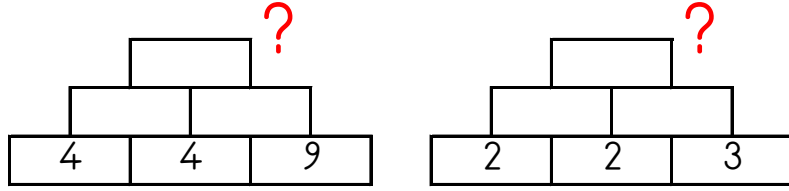
Adı Soyadı:

Sınıfı :

Okulu :

Yunus KÜLCÜ


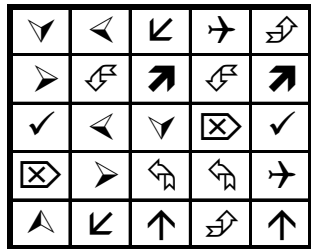


Alttaki iki kutunun toplamını bir üst kutuya yazarak en üstteki sayıyı bul ve işaretle.



17                      13                      21                      20                      9

### EŞİ OLMAYANI BUL

Aşağıdaki her bir kutuda eş olmayan şekli bulun ve işaretleyin.



www.eglenccalccsmalar.com

ADI :

### PROBLEM ÇÖZELİM



1) 5 sayısının 4 eksiği kaç eder?


3) Eymen'in 4, Muhammed'in 7 kalem var. İki kalem bir araya getirirse toplam kaç kalemleri olur?


5) Eymen'in 8, Betül'ün 3 çileği var. Eymen'in çilekleri Betül'ün çileklerinden kaç tane fazladır?


2) Bir ağaçta 5 kuş var. Ağaca 9 kuş daha kondu. Ağaçta toplam kaç kuş oldu?



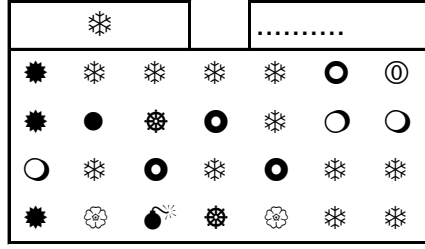
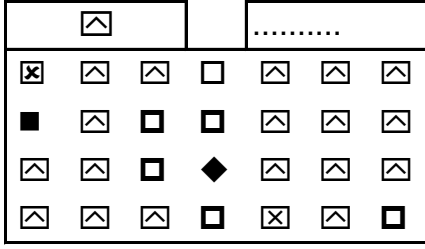

4) Bir tabakta 10 kek var. Tabaktan 1 kek alınırsa tabakta kaç kek kalır?


6) Mete'nin 5 tane kitabı var. Annesi 10 kitap daha verdi. Mete'nin kaç kitabı oldu?


5    15    14    1    11    13    9



## KAÇ TANE VAR?



Uygun kutuları boyayarak yolu tamamlayın. (biri geri ritmik sayarak)



20	19	18	8	20	13	19	8	3	14
17	18	17	16	8	17	19	6	5	4
1	8	2	15	14	7	9	7	7	3
19	2	18	2	13	12	20	8	8	2
18	1	11	3	1	11	10	9	11	1



## ALFABEMİZ (ÖNCEKİ SONRAKİ HARF)

"←" işareti verilen harften önceki harfi, "→" işareti ise verilen harften sonraki harfi göstermektedir. Çalışmayı doğru şekilde tamamlayabilmen için harflerin sıralanışını iyi bilmen gerekir. Aşağıya alfabeji yazman işini oldukça kolaylaştırıcaktır.

Verilen Yönerge	C→; D→; P→; C→; F←; Y←; D→
Oluşan Gizli Kelime	
Verilen Yönerge	L←; U→; R←; D→
Oluşan Gizli Kelime	
Verilen Yönerge	C←; J←; A→; F←; P→
Oluşan Gizli Kelime	

Verilen harflerle yeni kelimeler oluşturun. Her oluşturduğunuz kelimenin sağına o kelimenin harf sayısı kadar puan yazın.

a, a, t, ü, t, l	
↓	Puan
✂	
✂	
✂	
✂	
✂	
✂	
✂	
Kazandığın Toplam Puan	

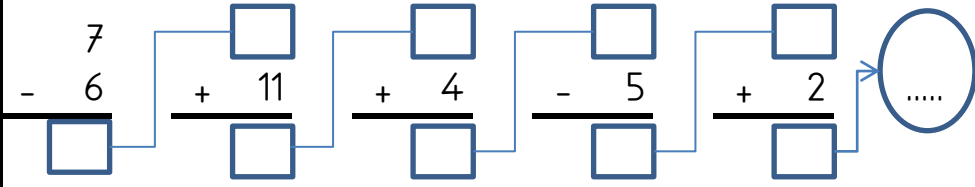
e, y, n, k, i, a	
↓	Puan
✂	
✂	
✂	
✂	
✂	
✂	
✂	
Kazandığın Toplam Puan	

### MINİ TEKRAR ÇALIŞMASI 1

$..... + 6 = 13$

$16 - 6 = .....$

$10 + 2 = .....$



Kelimelerin zıt anlamlarını karşlarına yazın.

ARTI	E.....
GERÇEK	S.....

GİTMEK	G.....
İLK	S.....

Aşağıdaki kelimeleri sözlük sırasına göre numaralandırın.

UTANMA		SUAL		UYSAL	
SABAH		OTOBÜS		HALI	
DOĞRU		GÖZLÜK		KÖPEK	

### GİZLİ KUTULAR (SONUCU 9)

12 - 2	2 + 3	4 + 1	12 - 2	14 - 3	18 - 7	6 + 4
7 - 1	7 - 2	8 + 5	4 + 2	14 - 1	2 + 6	16 - 3
2 + 5	6 + 4	7 + 2	8 + 4	1 + 8	18 - 8	2 + 6
1 + 8	2 + 7	16 - 7	5 + 6	15 - 8	7 + 4	12 - 4
3 + 6	12 - 3	13 - 5	13 - 1	5 + 7	3 + 6	13 - 4
10 - 3	12 - 3	18 - 8	11 - 6	1 + 6	16 - 8	3 + 5

Bu işlem kutularının arasında sonucu 9 olan 10 kutu gizlenmiştir. Bu kutuları bulabilir misin?

### MINİ TEKRAR ÇALIŞMASI 2

Aşağıdaki işlemleri yapın ve şifreyi bulun.

A	3 + 11 = ....
A	4 - 3 = ....
R	6 + 12 = ....
P	7 - 1 = ....

A	14 - 7 = ....
Y	16 - 5 = ....
M	1 + 1 = ....
N	7 + 8 = ....

A	5 + 5 = ....
Ğ	19 + 1 = ....
İ	13 + 4 = ....
K	3 + 2 = ....

10	18	2	14	20	7	15	5	1	11	17	6

Aşağıdaki tabloda bulunan boşlukları doldurun

<i>DÜN</i>	<i>BUGÜN</i>	<i>YARIN</i>
	CUMARTESİ	
PERŞEMBE		
	ÇARŞAMBA	

Aşağıdaki boşlukları doldurun.

8	10	12			
16	14	12			
6	7	8			
45	50	55			

### GİZLİ KUTULAR (SONUCU 10)

19 - 9	2 + 8	13 - 7	5 + 7	5 + 1	17 - 7	11 - 5
7 + 5	2 + 6	5 + 3	19 - 7	12 - 1	14 - 2	14 - 4
7 + 1	19 - 8	14 - 7	16 - 4	18 - 6	15 - 4	18 - 6
7 + 3	19 - 9	17 - 5	7 + 1	18 - 7	12 - 2	7 + 1
2 + 4	1 + 7	6 + 5	16 - 5	5 + 7	15 - 5	17 - 7
9 + 5	14 - 3	4 + 8	7 + 3	5 + 2	1 + 8	13 - 7

Bu işlem kutularının arasında sonucu 10 olan 10 kutu gizlenmiştir. Bu kutuları bulabilir misin?

