

SIRA SİZDE

Aşağıdaki boşluğa kendi çalışmanı hazırlayabilirsin.

Kitapçık Hakkında

Bu kitapçıkta konu tekrarı amaçlı etkinlikler ve eğlenceli çalışmalar bulunmaktadır. Haftalık olarak çalışmalar üretilmeye ve paylaşılmaya devam edecektir.

Kontrol Edenin Adı İmzası

2. SINIF EĞLENCELİ ÇALIŞMALAR 11

16 Eğlenceli Çalışma
16 Problem



www.eglencelicalismalar.com

Adı Soyadı:
Sınıfı :
Okulu :

Yunus KÜLCÜ



PROBLEMLER



1) Betül'ün 65 lirası vardı. Teyzesi Betül'e 21 lira daha verdi. Betül'ün kaç lirası oldu?

Cevap:

2) Muhammed bir günde 10 sayfa kitap okumaktadır. Muhammed 5 günde kaç sayfa kitap okur?

Cevap:

3) Bir çiftlikte 6 inek ve ineklerin 2 katının 23 fazlası kadar da tavşan vardır. Buna göre bu çiftlikte kaç tane tavşan vardır?

Cevap:

4) Yunus'un bir miktar parası vardı. Dayısı Yunus'a 48 lira daha verince Yunus'un 99 lirası oldu. Buna göre Yunus'un başlangıçta kaç lirası vardı?

Cevap:

5) Ayşenaz'ın 47 lirası vardı. Ayşenaz parasının bir miktarına kalemtraş almıştır. Ayşenaz'ın 43 lirası kaldığına göre Ayşenaz kalemtraş için kaç lira harcamıştır?

Cevap:

6) Bir sınıfta 9 erkek öğrenci ve erkeklerin 4 katı kadar da kız öğrenci vardır. Buna göre bu sınıfta kaç kız öğrenci vardır?

Cevap:

7) 32 sayısına 3 onluk ve 8 birlik eklersek hangi sayıya ulaşırız?

Cevap:


8) Mete cuma günü 20 sayfa, cumartesi günü 7 sayfa, pazar günü ise 10 sayfa kitap okumuştur. Mete bu üç günde toplam kaç sayfa kitap okumuştur?

Cevap:

ŞİFRELİ EŞ ANLAMLI KELİMELER



1	İSTEK
2	MİLLET
3	KOCAMAN
4	SINAV
5	YAŞAM
6	KİRLİ
7	PROBLEM
8	ÖĞRETMEN
9	MESELA
10	GÜÇ
11	EŞANLAMLI



S	HAYAT
L	İMTİHAN
U	ULUS
A	MUALLİM
D	ÖRNEĞİN
S	ARZU
R	SORUN
N	ANLAMDAŞ
A	BÜYÜK
I	PİS
A	KUVVET



1	2	3	4	5	6	7	8	9	10	11
---	---	---	---	---	---	---	---	---	----	----



www.eglecelismalar.com

SUDOKU (KOLAY SEVİYE)

Sudoku 1

1		2	3	4
2				3
4		5	1	2
3	1	4		5
	2		4	

Sudoku 2

1	4		3	
5	1		2	4
3		4	1	5
2	5	1	4	
		2		1

Sudoku 3

2	3	4		
	2		5	3
		2	4	1
1	4	5	3	2
	1	3	2	

Sudoku 4

4	5	2		3
5	2		3	1
1		5		
2	1		5	4
			2	5



SUDOKU (NORMAL SEVİYE)

Her satır ve sütunda 1,2,3,4 rakamlarını kullanarak boş kutuları doldurun.

Sudoku 1

2		1	
		2	3
3			
	2	3	1

Sudoku 2

			3
1		2	4
	2	4	1

Sudoku 3

4			2
1		3	4
		2	
		4	



Sudoku 4

4	2		3
2		3	
	4	2	

Sudoku 5

1	4		3
	2		
2		3	4
4			

Sudoku 6

	2	3	1
	1	2	
2		1	



EĞLENCELİ MATEMATİK - 2

Her katın toplamı apartman numarasını veriyor. Verilmeyen numaraları bulunuz.

1			12			15					
1	1	5	2		7	5	7	6		5	
	3	3	4	5		10		3		1	
1		2	2		4	6	5	8	1	4	

Verilen sayıdan başlayarak ok yönünde işlemleri yapın ve verilmeyen sayıları bulun.

	-6		+1		+9	12		-6		+9		-7	
-7						+5		+9					-5
								5					
+7						-9		-3					+1
	+7		-2		-5				+3		+4		-5

PROBLEMLER



9) Zümra pazartesi günü 37 sayfa, salı günü ise pazartesi gününden 26 sayfa daha az kitap okumuştur. Zümra iki günde toplam kaç sayfa kitap okumuştur?

Cevap:

10) Betül'ün 9 deste balonu vardı. Betül balonlarının 68 tanesini kaybetti. Betül'ün kaç tane balonu kalmıştır?

Cevap:

11) Meyra 2 yaşındadır. Betül'ün yaşı, Meyra'nın yaşının 10 katıdır. Buna göre Betül 8 yıl önce kaç yaşındaydı?

Cevap:

12) 3×8 işleminin sonucunun 50 fazlası kaçtır?

Cevap:

13) Deniz 29 yaşındadır. Ömer, Deniz'den 3 yaş küçüktür. Buna göre Ömer 4 yıl sonra kaç yaşında olur?

Cevap:

14) Ertuğrul tanesi 5 lira olan silgilerden 3 tane aldıktan sonra elinde 11 lira kalmıştır. Buna göre Ertuğrul'un başlangıçta kaç lirası vardı?

Cevap:

15) Eymen 44 liraya oyuncak aldı ve 33 lirası kaldı. Buna göre Eymen'in başlangıçta kaç lirası vardı?

Cevap:

16) Meyra 27 yıl sonra 29 yaşında olacaktır. Meyra 18 yıl sonra kaç yaşında olur?

Cevap:

FARKLI OLANI BUL

Aşağıdaki her grupta kelime çiftlerinden anlam ilişkisi bakımından farklı olanı işaretleyin.



HOŞ	GÜZEL
AÇIK	KAPALI
İCAT	BULUŞ

ÖDÜL	CEZA
SAVAŞ	HARP
BÜYÜK	KÜÇÜK

SAĞLIK	SIHHAT
GERÇEK	SAHTE
YARAMAZ	USLU

MUTLU	ÜZGÜN
KAYBETMEK	BULMAK
OKUL	MEKTEP

KORKAK	CESUR
PROBLEM	SORUN
YÜKSEK	ALÇAK

AĞIR	HAFIF
ÖNDER	LİDER
GİRİŞ	ÇIKIŞ

MANAV ALIŞVERİŞİ - 1



1kg 5 TL



1kg 2 TL



1kg 3 TL



1kg 1 TL

1) 3 kg vişne kaç liradır?

2) 6 kg patlıcan kaç liradır?

3) 7 kg patates kaç liradır?

4) 8 kg patates ve 8 kg vişne toplam kaç liradır?

5) Manava 50 lira verdim. 5 kg vişne aldım. Kaç lira para üstü almalıyım?

6) 3 kg salatalık, 2 kg vişne ve 7 kg patlıcan toplam kaç liradır?

DİKKAT GELİŞTİRME SORULARI

12, 8, 1, 7, 11, 10 | 4, 3, 2, 9, 6, 5

1) Aradığımız sayının bulunduğu kutuda 8 sayısı da bulunmaktadır. Bu sayı bulunduğu kutunun son üç sayısından birisidir. Bu sayı aşağıdakilerden hangisi olabilir?

a) 1 b) 11 c) 2 d) 6

6, 5, 8, 12, 7, 10 | 3, 11, 4, 2, 9, 1

3) Aradığımız sayı 12 sayısının bulunduğu kutudadır. Bu sayı bulunduğu kutunun son üç sayısından birisi değildir. Bu sayı aşağıdaki sayılardan hangisi olamaz?

a) 5 b) 7 c) 8 d) 6

5, 10, 12, 9, 4, 3 | 1, 11, 8, 2, 6, 7

2) Aradığımız sayının bulunduğu kutuda 8 sayısı da bulunmaktadır. Bu sayı bulunduğu kutunun son üç sayısından birisi değildir. Bu sayı aşağıdaki sayılardan hangisi olamaz?

a) 8 b) 11 c) 1 d) 4

3, 2, 5, 8, 12, 4 | 10, 11, 7, 6, 9, 1

4) Aradığımız sayının bulunduğu kutuda 3 sayısı yoktur. Bu sayı bulunduğu kutunun son üç sayısından birisidir. Bu sayı aşağıdakilerden hangisi olabilir?

a) 3 b) 8 c) 11 d) 6

Bulduğunuz cevapların toplamı 28 ise başarıdır.

www.eglenicelismalar.com

TOPLA, ÇIKAR, ÇARP

Verilen işlemleri yaparak ok yönünde ilerle ve sonuca ulaş.

$$\begin{array}{r} 30 \\ + 10 \\ \hline \end{array} \quad \begin{array}{r} \dots \\ - 33 \\ \hline \end{array} \quad \begin{array}{r} \dots \\ \times 2 \\ \hline \end{array}$$

$$\begin{array}{r} 34 \\ + 53 \\ \hline \end{array} \quad \begin{array}{r} \dots \\ - 84 \\ \hline \end{array} \quad \begin{array}{r} \dots \\ \times 2 \\ \hline \end{array}$$

$$\begin{array}{r} 46 \\ + 52 \\ \hline \end{array} \quad \begin{array}{r} \dots \\ - 95 \\ \hline \end{array} \quad \begin{array}{r} \dots \\ \times 4 \\ \hline \end{array}$$

$$\begin{array}{r} 18 \\ + 17 \\ \hline \end{array} \quad \begin{array}{r} \dots \\ - 30 \\ \hline \end{array} \quad \begin{array}{r} \dots \\ \times 2 \\ \hline \end{array}$$

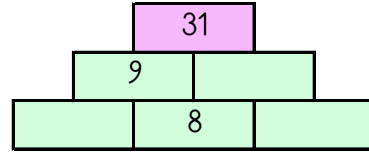
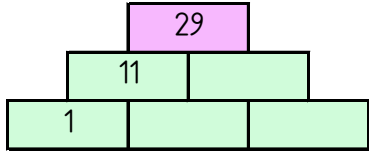
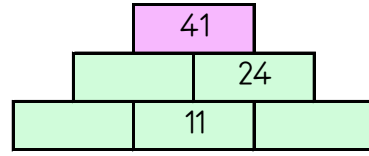
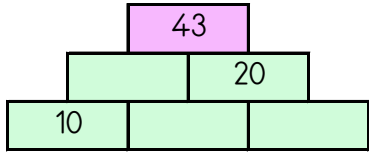
$$\begin{array}{r} 28 \\ + 16 \\ \hline \end{array} \quad \begin{array}{r} \dots \\ - 40 \\ \hline \end{array} \quad \begin{array}{r} \dots \\ \times 4 \\ \hline \end{array}$$

$$\begin{array}{r} 44 \\ + 27 \\ \hline \end{array} \quad \begin{array}{r} \dots \\ - 68 \\ \hline \end{array} \quad \begin{array}{r} \dots \\ \times 8 \\ \hline \end{array}$$

10 6 28 16 12 14 24

TOPLAMA PİRAMİDİNDE VERİLMİYEN SAYILAR

Toplama piramidi üzerinde bazı sayılar verilmemiştir. Bunları bulabilir misin?



SAYI YERLEŞTİRME (Seviye1)

Tabloyu, ipuçlarını kullanarak 1,2,3,4,5,6,7,8,9 rakamları ile doldurunuz.

		4

9		
9	5	
		6
✓		

7		
	✓	

1		
		✓

8		
✓		

3		
	✓	

ZİHİNDEN VERİLMİYEN SAYILAR

Aşağıdaki işlemlerde verilmeyenleri bularak ilerleyin ve noktalı yerlere cevapları yazın.

$$6 + \blacksquare = 18$$

$$\blacksquare + \heartsuit = 21$$

$$\heartsuit - \blacktriangle = 2$$

$$\blacktriangle - \text{☂} = 3$$

$$\text{☂} = \dots\dots$$

$$13 + \blacktriangle = 22$$

$$\blacktriangle - \text{✂} = 4$$

$$\text{✂} + \heartsuit = 12$$

$$\star - \heartsuit = 2$$

$$\star = \dots\dots$$

$$\text{✂} - 2 = 12$$

$$\text{✂} - \blacksquare = 9$$

$$\blacksquare - \text{☂} = 4$$

$$\diamond - \text{☂} = 1$$

$$\diamond = \dots\dots$$

$$10 - \blacksquare = 9$$

$$\text{☂} - \blacksquare = 8$$

$$\text{☂} - \text{✂} = 1$$

$$\diamond + \text{✂} = 11$$

$$\diamond - 1 = \dots\dots$$

$$\blacksquare + 15 = 24$$

$$\blacksquare - \heartsuit = 4$$

$$\heartsuit - \diamond = 2$$

$$\text{☂} + \diamond = 9$$

$$\text{☂} + 7 = \dots\dots$$

$$\text{☂} + 7 = 8$$

$$\text{✂} - \text{☂} = 6$$

$$\text{✂} + \diamond = 17$$

$$\diamond + \blacktriangle = 14$$

$$\blacktriangle + 10 = \dots\dots$$

TOPLAMA TABLOSU VERİLMİYENLERİ BULMA

Toplama tablosunda verilmeyen sayıları bulunuz.

+	5	
	15	
12		14
	18	

+		10
		18
13	24	
	23	

Bilgi: Toplama tablosunda "+" işaretinin sağında ve altında bulunan sayılar toplanan sayılardır. Bu sayıların tabloda kesiştikleri yerlere ise toplamlar yazılır.

ÇARPIM TABLOSU EŞLEŞTİRME

Aşağıdaki tablodan işlemleri cevaplarıyla eşleştirdiğinizde hangi sayı boşta kalır?

3×2	15	18	45	2×2
10	20	12	2×7	25
4	5×4	4×6	3×5	5×2
2×9	27	21	14	5×5
3×4	3×7	24	6	3×9

ÇARPMA SORULARI

Soruların cevaplarını bulun ve işaretleyin.

9'un 2 katının 17 eksiği kaçtır?

10 kere 2 kaçtır?

10 x 1 işleminin sonucu kaçtır?

3'ün 4 katı kaçtır?

5'in 4 katının 3 eksiği kaçtır?

1 ile 2'nin çarpımı kaçtır?

5 ile 7'nin çarpımı kaçtır?

5 x 8 işleminin sonucu kaçtır?

9 ile 3'ün çarpımı kaçtır?

9 kere 4 kaçtır?

8 x 2 işleminin sonucu kaçtır?

7'nin 2 katı kaçtır?

36 - 1 - 16 - 40 - 20 - 10 - 17 - 2 - 35 - 8 - 12 - 27 - 14

HANGİSİ DOĞRU

Doğru yazılan kelimenin şifre harfini boş kutulara yazarak şifreyi oluşturun.

1)	T	YAĞMUR
2)	A	ÖĞRETMEN
3)	B	SARIMSAK
4)	N	EYLENMEK
5)	K	BİRKAÇ
6)	E	DAİRE
7)	E	GAZTE
8)	R	ŞÖFÖR
9)	E	JİLET
10)	T	CANDARMA

K	YAMUR
N	ÖRETMEN
D	SARMISAK
A	EĞLENMEK
Ü	BİR KAÇ
A	DAYRE
K	GAZETE
M	ŞOFÖR
K	CİLET
K	JANDARMA



1	2	3	4	5	6	7	8	9	10

SAYILARI YERLEŞTİR (TOPLAMA PİRAMİDİ)

Toplama piramidi üzerindeki sayılar yerlerinden çıkmış. Sayıları yerlerine yazabilir misiniz?

