

RESİM KÖŞESİ

Kitapçık Hakkında

Bu kitapçıkta konu tekrarı amaçlı etkinlikler ve dikkat geliştirici eğlenceli çalışmalar bulunmaktadır. Yönergeler veliler ve öğretmenler için hazırlandığından küçük puntolarla yazılmıştır. Faydalı olması dileğiyle.

Kontrol Edenin Adı İmzası

www.eglencelicalismalar.com

1. SINIF EĞLENCELİ ÇALIŞMALAR 11

27 Etkinlik



www.eglencelicalismalar.com

Adı Soyadı:

Sınıfı :

Okulu :

Yunus KÜLCÜ



DİKKAT ETKİNLİKLERİ 1. SET

Şekillerin yandaki gibi sıralandığı 2 grubu işaretleyiniz. ★ ★ ★ ★

★ ★ ★ ★	★ ★ ★ ★	★ ★ ★ ★	★ ★ ★ ★
★ ★ ★ ★	★ ★ ★ ★	★ ★ ★ ★	★ ★ ★ ★
★ ★ ★ ★	★ ★ ★ ★	★ ★ ★ ★	★ ★ ★ ★
★ ★ ★ ★	★ ★ ★ ★	★ ★ ★ ★	★ ★ ★ ★
★ ★ ★ ★	★ ★ ★ ★	★ ★ ★ ★	★ ★ ★ ★
★ ★ ★ ★	★ ★ ★ ★	★ ★ ★ ★	★ ★ ★ ★
★ ★ ★ ★	★ ★ ★ ★	★ ★ ★ ★	★ ★ ★ ★
★ ★ ★ ★	★ ★ ★ ★	★ ★ ★ ★	★ ★ ★ ★
★ ★ ★ ★	★ ★ ★ ★	★ ★ ★ ★	★ ★ ★ ★
★ ★ ★ ★	★ ★ ★ ★	★ ★ ★ ★	★ ★ ★ ★

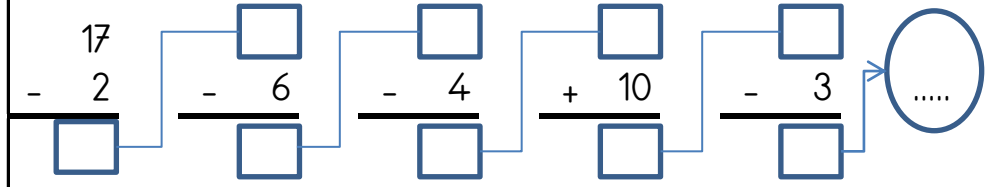


MINİ TEKRAR ÇALIŞMASI 1

$16 - 3 = \dots\dots$

$2 + \dots\dots = 18$

$2 + 1 = \dots\dots$



Kelimelerin zıt anlamlarını karşlarına yazın.

DÜZ	T.....
ISLAK	K.....

BULMAK	K.....
SIYAH	B.....

Aşağıdaki kelimeleri sözlük sırasına göre numaralandırın.


GEMİ		KİVİ		UYGUN	
GERÇEK		YAPIT		DAVET	
YELEK		GÜLMEK		GENÇ	

www.eglenicalismalar.com

HANGİ KUTULAR (SONUCU 10)

5 + 9	8 + 2	13 - 7	3 + 7	7 + 1	15 - 8	8 + 2
13 - 6	14 - 1	12 - 2	4 + 5	8 + 6	9 - 3	5 + 2
15 - 1	17 - 4	6 + 1	18 - 7	7 + 5	11 - 4	7 + 1
11 - 1	9 + 5	5 + 6	14 - 2	1 + 9	6 + 7	16 - 2
7 + 1	11 - 3	6 + 6	7 + 3	11 - 5	9 + 5	4 + 6
7 + 4	2 + 4	5 + 1	8 + 2	9 - 2	9 + 1	18 - 6

Bu işlem kutularının arasında sonucu 10 olan 10 kutu gizlenmiştir. Bu kutuları bulabilir misin?



MINİ TEKRAR ÇALIŞMASI 2

Aşağıdaki işlemleri yapın ve şifreyi bulun.

H	8 + 12 =.....
A	7 + 9 =.....
İ	11 + 6 =.....
G	16 - 8 =.....

T	12 - 3 =.....
L	9 + 3 =.....
İ	1 + 13 =.....
S	15 - 8 =.....

İ	7 - 3 =.....
Y	16 + 2 =.....
A	6 + 4 =.....
B	12 - 7 =.....

20	16	18	10	9	5	4	12	8	17	7	14

Aşağıdaki tabloda bulunan boşlukları doldurun

DÜN	BUGÜN	YARIN
	ÇARŞAMBA	
CUMA		
PAZARTESİ		

Aşağıdaki boşlukları doldurun.

20	19	18			
13	14	15			
16	14	12			
8	10	12			

4x4 SUDOKU (KOLAY SEVİYE)

Her satır ve sütunda 1,2,3,4 rakamlarını kullanarak boş kutuları doldurun.

Sudoku 1

2	3		
1	4	2	
	1	3	2
	2	1	

Sudoku 2

4		3	1
3		4	2
			3
1	3		4

Sudoku 3

4	3	1	
2		4	
	4	2	1
	2	3	



Sudoku 4

1			
	4	1	
4	3	2	
2	1	3	4

Sudoku 5

3			4
	2	3	1
1	3	4	
	4	1	



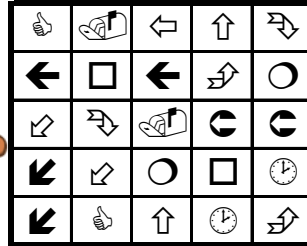

Sudoku 6

2	4	1	
1			
4	2	3	
	1	4	2



EŞİ OLMAYANI BUL

Aşağıdaki her bir kutuda eş olmayan şekli bulun ve işaretleyin.



ŞEKİLLİ SUDOKULAR (Seviye 2)

Çember, üçgen, kare ve dikdörtgen şekillerini; her satır, sütun ve koyu renkli alanlara, benzerleri olmayacak şekilde yerleştiriniz.

○	△		
		△	○
□	□	○	
△		□	□

www.eglencecalismalar.com

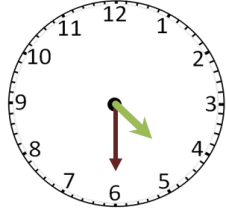



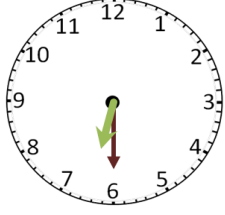

ZIT ANLAMLI KELİME BULMACASI

Aşağıdaki zıt anlamlı kelime çiftlerini boyayın. Hangi kelimenin boşta kalacağını bulun.

SERT	AZ	DOST	TATLI	GELMEK
DÜŞMAN	AĞLAMAK	HIZLI	YAVAŞ	GÜLMEK
GİTMEK	YARAMAZ	ÇOK	ACI	USLU

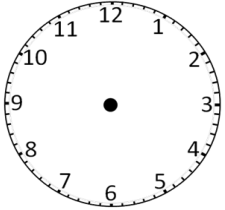
SAATLER

Noktalı alanlara saatlerin kaç gösterdiğini yazınız.

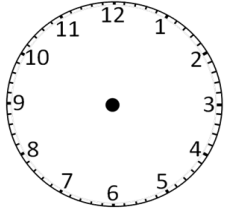


AKREP VE YELKOVANI ÇİZELİM

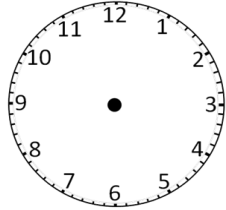
Akrep ve yelkovani belirtilen saatlere uygun şekilde çizin.



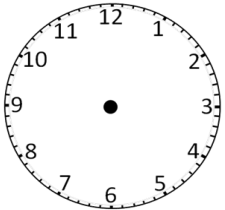
3.30



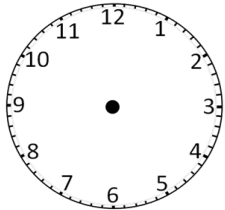
11.00



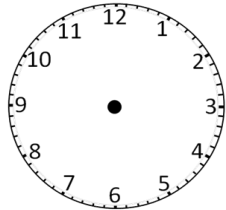
10.00



11.30



6.00



2.00

MINİ TEKRAR ÇALIŞMASI 3

Aşağıdaki zıt anlamlı kelimeleri eşleştirin ve şifreyi bulun.

1	BOLLUK
2	İLK
3	YER
4	ARKA
5	ARTI

R	EKSİ
D	KITLIK
E	ÖN
İ	SON
Ğ	GÖK

6	ESKİ
7	GECE
8	TEMİZ
9	UZUN
10	SOĞUK

A	GÜNDÜZ
K	YENİ
T	SICAK
Ğ	KIRLI
İ	KISA

1	2	3	4	5	6	7	8	9	10

Aşağıdaki noktalı alanları doldurun.

Haftanın 7. günü	Yılın 11. ay	Haftanın 1. günü	Haftanın 2. günü
.....

www.eglenicelismalar.com

HANGİSİ BÜYÜK

Sonucu büyük olan taraftan devam et. Ulaştığın çıkışı işaretle.

- 1.Çıkış 2.Çıkış 3.Çıkış 4.Çıkış 5.Çıkış 6.Çıkış 7.Çıkış 8.Çıkış

2 + 10	6 + 3	3 + 10	8 + 4	2 + 9	7 + 3	3 + 11	7 + 4
--------	-------	--------	-------	-------	-------	--------	-------

$14 + 1$

$11 + 2$

$1 + 8$

$6 + 2$

$10 + 2$

$9 + 1$

Başla

ARADAKİ SAYI

Aşağıda verilen sayı çiftlerinin aralarındaki sayıları yazın.

17		19
----	--	----

4		6
---	--	---

12		14
----	--	----

15		17
----	--	----

1		3
---	--	---

9		11
---	--	----

3		5
---	--	---

10		12
----	--	----

ÖNCEKİ SONRAKİ

Aşağıda verilen sayılardan önceki ve sonraki sayıları yazın.

	14	
--	----	--

	9	
--	---	--

	6	
--	---	--

	13	
--	----	--

	12	
--	----	--

	2	
--	---	--

	18	
--	----	--

	4	
--	---	--

RİTMİK SAYMALAR

Ritmik saymalardaki boşlukları tamamlayın.

9	10	11
4	5	6
5	6	7
8	9	10
10	11	12
11	10	9

TOPLA, ÇIKAR VE İLERLE

Sırasıyla işlemlerin sonucunu bul ve Pepee'yi ok yönünde bulduğun sonuç kadar ilerlet.

$\begin{array}{r} \blacktriangleright \\ 12 \\ + 2 \\ \hline \end{array}$	$\begin{array}{r} \blacktriangledown \\ 10 \\ - 4 \\ \hline \end{array}$	$\begin{array}{r} \blacktriangleleft \\ 6 \\ + 7 \\ \hline \end{array}$	$\begin{array}{r} \blacktriangleup \\ 1 \\ + 4 \\ \hline \end{array}$	$\begin{array}{r} \blacktriangleright \\ 15 \\ - 3 \\ \hline \end{array}$	$\begin{array}{r} \blacktriangledown \\ 4 \\ - 1 \\ \hline \end{array}$
---------------------------------------------------------------------------	--------------------------------------------------------------------------	-------------------------------------------------------------------------	-----------------------------------------------------------------------	---------------------------------------------------------------------------	-------------------------------------------------------------------------



					N									
									C					
		K												
													L	
						F					H			
E														

ŞİFRELİ ALFABE ÇALIŞMASI

Aşağıda verilen her bir sayı alfabemizde bulunan bir harfi temsil etmektedir. Bu sayılar harfin alfabedeki sırasını göstermektedir. (1=A, 2=B, 3=C ...)



5-26-29-6-17-15-12

5-6-21-22

4-1-15-11-23-11-28-18-21-25-16

ZİHİNDEN SAYI SORULARI

Aşağıdaki soruları zihinden çözün ve cevaplarını yazıp işaretleyin.

- | | |
|-------------------------------------------------------------|----|
| 1) 10 sayısını 3 artırırsak sonuç kaç olur? | 6 |
| 2) 10, 8 daha kaç eder? | 18 |
| 3) 3 sayısının 5 fazlası kaç eder? | 13 |
| 4) 9 sayısını 7 eksiltirsek sonuç kaç olur? | 11 |
| 5) 3 sayısının 7 fazlası kaç eder? | 15 |
| 6) 8 sayısını 7 artırırsak sonuç kaç olur? | 1 |
| 7) 6 sayısını 1 eksiltirsek sonuç kaç olur? | 20 |
| 8) 8 sayısını 7 eksiltirsek sonuç kaç olur? | 10 |
| 9) 10 sayısını 10 artırırsak sonuç kaç olur? | 2 |
| 10) 9 sayısından 3 çıkarırsak sonuç kaç olur? | 8 |
| 11) 4 sayısı ile 7 sayısını toplarsak sonuç kaç olur? | 5 |
| 12) 7 sayısı ile 7 sayısını toplarsak sonuç kaç olur? | 14 |

ZİHİNDEN ZİNCİRLEME SAYI PROBLEMLERİ

Aşağıdaki soruları zihinden çözün ve cevaplarını yazıp işaretleyin.

- | | |
|---------------------------------------------------------|----|
| 1) 7 sayısının 6 eksiğinin 9 fazlası kaç eder? | 9 |
| 2) 7 sayısının 2 fazlasının 4 eksiği kaç eder? | 3 |
| 3) 3 sayısının 2 eksiğinin 6 fazlası kaç eder? | 7 |
| 4) 10 sayısının 1 eksiğinin 7 fazlası kaç eder? | 18 |
| 5) 1 sayısının 10 fazlasının 3 eksiği kaç eder? | 11 |
| 6) 9 sayısının 2 eksiğinin 8 fazlası kaç eder? | 8 |
| 7) 10 sayısının 2 fazlasının 10 eksiği kaç eder? | 15 |
| 8) 7 sayısının 5 eksiğinin 1 fazlası kaç eder? | 16 |
| 9) 7 sayısının 6 eksiğinin 8 fazlası kaç eder? | 6 |
| 10) 2 sayısının 5 fazlasının 1 eksiği kaç eder? | 5 |
| 11) 10 sayısının 2 eksiğinin 10 fazlası kaç eder? | 10 |
| 12) 9 sayısının 2 eksiğinin 4 fazlası kaç eder? | 2 |

www.eglencecalismalar.com

TOPLAMA TABLOLARI

Aşağıdaki toplama tablolarındaki boşlukları doldurun.

+	5	2	1
9			
17			
18			
5			

+	2	3	4
18			
16			
5			
19			

ONLUK BİRLİK SORULARI

2 onluk ile 5 birlik kaç eder?

1 onluk ile 3 birlik kaç eder?

1 onluk ile 8 birlik kaç eder?

2 onluk ile 8 birlik kaç eder?

7 birlik ile 2 onluk kaç eder?

2 onluk ile 6 birlik kaç eder?

GİZLİ KUTULAR (SONUCU 9)

15 - 5	11 - 2	13 - 1	13 - 2	6 + 3	14 - 1	12 - 3
12 - 2	16 - 6	1 + 8	11 - 5	16 - 6	2 + 4	5 + 2
8 + 2	1 + 4	14 - 7	3 + 8	17 - 5	13 - 5	6 + 4
7 + 6	8 + 2	15 - 8	3 + 5	15 - 7	16 - 7	4 + 5
17 - 8	3 + 6	12 - 7	12 - 3	3 + 3	8 + 1	8 + 3
16 - 3	4 + 1	5 + 7	10 - 4	18 - 5	10 - 3	15 - 2

Bu işlem kutularının arasında sonucu 9 olan 10 kutu gizlenmiştir. Bu kutuları bulabilir misin?

www.eglecelicalismalar.com

GENEL TEKRAR ÇALIŞMALARI

İşlemleri zihinden yapın ve şifreyi oluşturun.

N	20 - 5	Ü	18 + 2
D	10 - 4	Z	16 + 2
Ü	17 - 3	G	11 - 4

7	20	15	6	14	18

Aşağıdaki boşlukları doldurun.

2	4	6			
12	13	14			
20	18	16			

Aşağıdaki noktalı alanları doldurun.

..... + 15 = 20	5 + = 20
6 + = 19	4 + = 5

Aşağıdaki tabloda bulunan boşlukları doldurun

<u>DÜN</u>	<u>BUGÜN</u>	<u>YARIN</u>
	CUMARTESİ	
	SALI	

Sözlük sırasına göre numaralandırın.

KAPALI		KAVUN	
ONUR		ŞEHİR	
AKIL		SEVİNÇLİ	

Kelimelerin karşlarına zıt anlamlılarını yazın.

GERÇEK	S.....
SERT	Y.....
OTURMAK	K.....

TAZE	B.....
TERS	D.....
TEMİZ	P.....

Aşağıdaki noktalı alanları doldurun.

Yılın son ayı	Yılın 7. ayı	Yılın 8. ayı	Haftanın 4. günü
.....

Aşağıdaki noktalı alanları doldurun.

4 bütün yarım eder.
 3 bütün yarım eder.
 8 yarım bütün eder.
 6 onluk ile 9 birlik eder?
 6 onluk ile 2 birlik eder?
 2 birlik ile 8 onluk eder?

Kelimelerin doğrularını karşlarına yazın.

PERŞENBE
BU GÜN

Aşağıda kaç lira olduğunu bulun.

