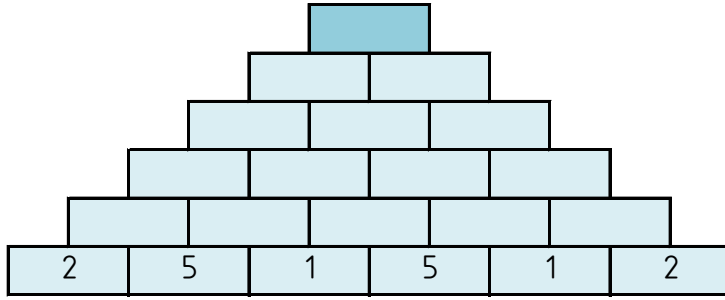


## BÜYÜK TOPLAMA PİRAMİDİ

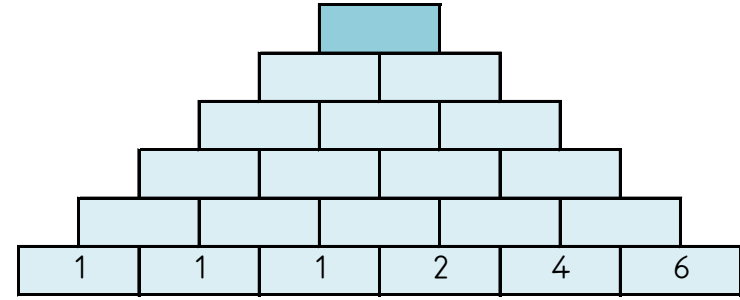
Toplama piramidini zihinden işlem yaparak tamamlayın ve tepe sayısını aşağıdaki sayılar içinden bulup işaretleyin.



76 85 57 74 73 94 99 34

## BÜYÜK TOPLAMA PİRAMİDİ

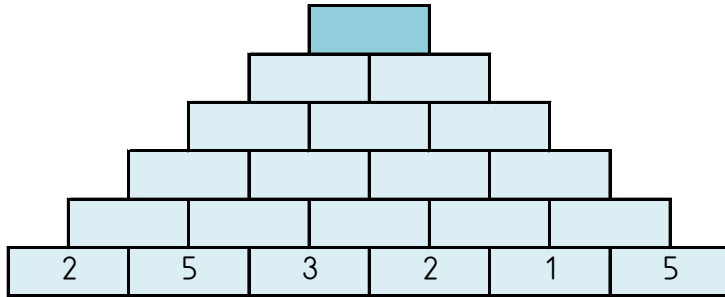
Toplama piramidini zihinden işlem yaparak tamamlayın ve tepe sayısını aşağıdaki sayılar içinden bulup işaretleyin.



92 39 89 81 36 33 62 41

## BÜYÜK TOPLAMA PİRAMİDİ

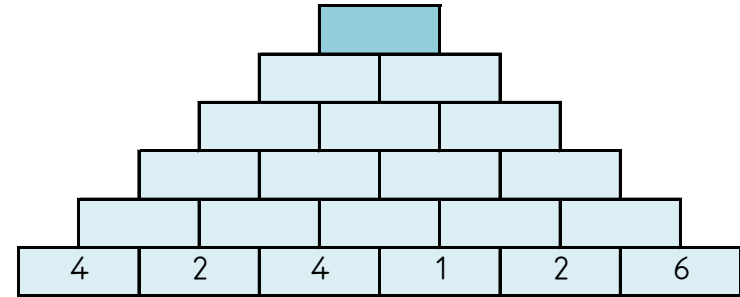
Toplama piramidini zihinden işlem yaparak tamamlayın ve tepe sayısını aşağıdaki sayılar içinden bulup işaretleyin.



87 46 83 89 40 35 80 98

## BÜYÜK TOPLAMA PİRAMİDİ

Toplama piramidini zihinden işlem yaparak tamamlayın ve tepe sayısını aşağıdaki sayılar içinden bulup işaretleyin.



80 74 59 86 62 93 71 70