


ŞEKİLLERİ SAYALIM

Aşağıdaki şekillerin kaçar tane olduğunu noktalı yere yazın.


 =  =



ŞEKİLLERİ SAYALIM


Aşağıdaki şekillerin kaçar tane olduğunu noktalı yere yazın.


 =  =



ŞEKİLLERİ SAYALIM


Aşağıdaki şekillerin kaçar tane olduğunu noktalı yere yazın.

 =  =



ŞEKİLLERİ SAYALIM

Aşağıdaki şekillerin kaçar tane olduğunu noktalı yere yazın.

 =  =

