


ŞEKİLLERİ SAYALIM

Aşağıdaki şekillerin kaçar tane olduğunu noktalı yere yazın.


● = ☀ =



ŞEKİLLERİ SAYALIM

Aşağıdaki şekillerin kaçar tane olduğunu noktalı yere yazın.

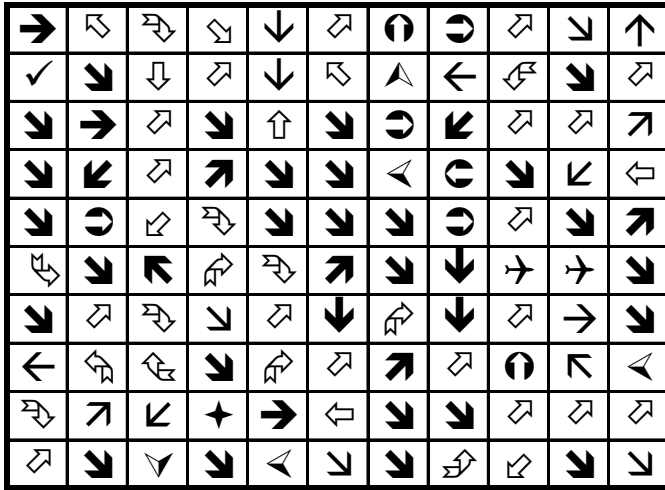
x = ✦ =



ŞEKİLLERİ SAYALIM

Aşağıdaki şekillerin kaçar tane olduğunu noktalı yere yazın.

↘ = ↗ =



ŞEKİLLERİ SAYALIM

Aşağıdaki şekillerin kaçar tane olduğunu noktalı yere yazın.

▲ = ▼ =

