


Kod alanındaki komutları kullanarak gerçek hazineyi bulup işaretleyebilir misin?


➤=Sağa; ➤=Sola; ▲=Yukarı; ▼=Aşağı



Başla	U	H	U	B	F
N	F	P	Ö	U	Y
D	I	Y	F	İ	J
Ü	H	F	Ş	U	K
N	Y	I	E	Ş	P
Y	Y	A	A	Ç	Ğ

KOD ALANI

Başla; 3▼; 5➤; 2▲; 4◀; 1▲;  
1➤; 4▼; Bitir.




Başla	O	L	U	B	L
E	P	Ş	R	V	L
M	Y	Z	J	Ü	L
C	İ	A	D	Ş	Y
S	O	L	M	L	U
N	J	N	J	Y	Ö

KOD ALANI

Başla; 4▼; 5➤; 1▼; 4◀; 3▲;  
4➤; 3▼; Bitir.

Kod alanındaki komutları kullanarak gerçek hazineyi bulup işaretleyebilir misin?


➤=Sağa; ➤=Sola; ▲=Yukarı; ▼=Aşağı



Başla	O	C	I	A	I
I	J	V	R	V	Ş
D	C	M	Y	J	T
S	Y	A	N	Z	A
E	İ	N	Ç	J	Ş
J	T	R	L	I	M

KOD ALANI

Başla; 2▼; 2➤; 1▲; 2➤; 2▼;  
1➤; 2▲; 3◀; Bitir.



Başla	V	D	R	I	Y
P	S	G	A	F	Ç
K	P	Ç	M	A	Ü
B	Ğ	O	Ü	N	H
L	F	Ç	R	S	I
Ş	Ü	Ğ	C	R	Ç

KOD ALANI

Başla; 3➤; 3▼; 2◀; 2▼; 4➤;  
4▲; 4◀; 1▲; Bitir.