

BİR PROBLEM DE SEN YAZ!



Açıklama:

Bu fasikülde 18 adet "Problem Çözme" çalışması (toplamda 140 problem) bulunmaktadır.

Konular:

Toplama, çıkarma, toplama ve çıkarma işlemlerinde verilmeyenleri bulma ve iki işlemli problemler

Not:

Problemler, kalıp sorular üzerinde isim, sayı ve nesne değiştirilerek çeşitlendirilmiştir.

Kontrol Edenin Adı

İmzası

2. SINIF PROBLEMLER FASİKÜLÜ 1

Öğrenci Adı Soyadı

.....



Hazırlayan:
Yunus KÜLCÜ



PROBLEM ÇÖZELİM



1) Meyra 36 yaşındadır. Bünyamin ise 15 yaşındadır. Meyra ve Bünyamin'in yaşları toplamı kaçtır?

37

2) 8 onluk ve 5 birlikten oluşan sayı ile 7 onluk ve 7 birlikten oluşan sayının farkı kaçtır?

8

3) Sukeyna 24 yaşındadır. Meyra ise 32 yaşındadır. Sukeyna ve Meyra'nın 8 yıl sonra yaşları toplamı kaç olur?

72

4) Betül'ün bir miktar kitabı vardı. Betül kitaplarının 28 tanesini kaybedince 9 tane kitabı kalmıştır. Buna göre başlangıçta Betül'ün kaç tane kitabı vardı?

17

51

5) Nisanur'un 18 lirası vardı. Nisanur parasının bir miktarına balon almıştır. Nisanur'un 17 lirası kaldığına göre Nisanur balon için kaç lira harcamıştır?

6) Ertuğrul'un 3 deste balonu vardı. Ertuğrul balonlarının 13 tanesini kaybetti. Ertuğrul'un kaç tane balonu kalmıştır?

7) Kayra 26 yaşındadır. Bünyamin ise 28 yaşındadır. Kayra ve Bünyamin'in yaşları farkı kaçtır?

8) Sukeyna'nın bir miktar kalemıraşı vardı. Sukeyna kalemıraşlarının 47 tanesini kaybedince 12 tane kalemıraşı kalmıştır. Buna göre başlangıçta Sukeyna'nın kaç tane kalemıraşı vardı?



PROBLEM ÇÖZELİM



1) Mete'nin 36 tane kalemıraşı vardır. Eymen'in kalemıraşlarının sayısı Mete'nin kalemıraşlarının sayısından 18 eksiktir. Buna göre Eymen'in kaç tane kalemıraşı vardır?

51

2) Eymen'in 40 tane kitabı vardı. Eymen kitaplarının bir miktarını kaybedince 21 tane kitabı kalmıştır. Buna göre Eymen kaç tane kitap kaybetmiştir?

19

3) Zümra, Kerem ve Şükriye'nin yaşları toplamı 75 sayısına eşittir. Zümra 48, Kerem 12 yaşında olduğuna göre Şükriye kaç yaşındadır?

53

4) Nisanur'un bir miktar parası vardı. Nisanur parasının 25 lirasına kalemıraş almıştır. Nisanur'un 42 lirası kaldığına göre Nisanur'un başlangıçta kaç lirası vardı?

35

17

18

6

67

15

5) Zeynep'in 2 düzine kitabı vardı. Zeynep kitaplarının 7 tanesini kaybetti. Zeynep'in kaç tane kitabı kalmıştır?

6) Kayra'nın 1 deste kalemıraşı vardı. Kayra kalemıraşlarının 4 tanesini kaybetti. Kayra'nın kaç tane kalemıraşı kalmıştır?

7) Zümra 25 yaşındadır. Deniz ise 26 yaşındadır. Zümra ve Deniz'in yaşları toplamı kaçtır?

8) Ayşenaz 14 yaşındadır. Kayra, Ayşenaz'dan 25 yaş büyüktür. Buna göre Ayşenaz ve Kayra'nın yaşları toplamı kaçtır?



PROBLEM ÇÖZELİM



1) Deniz'in bir miktar kalemi vardı. Deniz kalemlerinin 2 tanesini kaybedince 1 tane kalemi kalmıştır. Buna göre başlangıçta Deniz'in kaç tane kalemi vardı?

5

34

2) Yunus'un 72 lirası vardı. Yunus parasının bir miktarına kalem tıraş almıştır. Yunus'un 24 lirası kaldığına göre Yunus kalem tıraş için kaç lira harcamıştır?

21

20

3) Eymen'in 67 tane kalem tıraşı vardır. Meyra'nın kalem tıraşlarının sayısı Eymen'in kalem tıraşlarının sayısından 54 eksiktir. Buna göre bu iki arkadaşın toplam kaç kalem tıraşı vardır?

48

80

3

4) Nisanur'un 1 düzine kitabı vardı. Nisanur kitaplarının 7 tanesini kaybetti. Nisanur'un kaç tane kitabı kalmıştır?

14

68

5) Muhammed, Sukeyna ve Kerem'in yaşları toplamı 99 sayısına eşittir. Muhammed 21, Sukeyna 64 yaşında olduğuna göre Kerem kaç yaşındadır?

6) Tarık'ın 29 tane balonu vardır. Bünyamin'in balonlarının sayısı Tarık'ın balonlarının sayısından 9 eksiktir. Buna göre Bünyamin'in kaç tane balonu vardır?

7) Zeynep'in 20 tane balonu vardır. Kerem'in balonlarının sayısı Zeynep'in balonlarının sayısından 28 fazladır. Buna göre bu iki arkadaşın toplam kaç balonu vardır?

8) Yunus 27 yaşındadır. Meyra, Yunus'dan 4 yaş küçüktür. Kerem ise Meyra'dan 11 yaş büyüktür. Buna göre Kerem kaç yaşındadır?



PROBLEM ÇÖZELİM



1) Zümra'nın 5 deste balonu vardı. Zümra balonlarının 40 tanesini kaybetti. Zümra'nın kaç tane balonu kalmıştır?

32

22

2) 2 birlik ve 9 onluktan oluşan sayı ile 4 birlik ve 2 onluktan oluşan sayının farkı kaçtır?

35

3) Sukeyna'nın bir miktar parası vardı. Sukeyna parasının 33 lirasına kalem tıraş almıştır. Sukeyna'nın 25 lirası kaldığına göre Sukeyna'nın başlangıçta kaç lirası vardı?

46

10

4) Yunus'un bir miktar kalem tıraşı vardı. Yunus kalem tıraşlarının 32 tanesini kaybedince 42 tane kalem tıraşı kalmıştır. Buna göre başlangıçta Yunus'un kaç tane kalem tıraşı vardı?

58

5) Bünyamin 45 yaşındadır. Muhammed, Bünyamin'den 2 yaş küçüktür. Buna göre Muhammed 8 yıl önce kaç yaşındaydı?

6) Zeynep'in 6 deste kalemi vardı. Zeynep kalemlerinin 14 tanesini kaybetti. Zeynep'in kaç tane kalemi kalmıştır?

7) Bünyamin'in 3 düzine balonu vardı. Bünyamin balonlarının 4 tanesini kaybetti. Bünyamin'in kaç tane balonu kalmıştır?

8) Zeynep 45 yaşındadır. Sukeyna ise 19 yaşındadır. Zeynep ve Sukeyna'nın 9 yıl sonra yaşları toplamı kaç olur?



PROBLEM ÇÖZELİM



1) 5 birlik ve 3 onluktan oluşan sayının 14 eksiği kaçtır?

46

47

2) Bünyamin, Meyra ve Kayra'nın toplam 73 kalemıraşı var. Bünyamin'in 10, Meyra'nın 29 kalemıraşı olduğuna göre Kayra'nın kaç kalemıraşı vardır?

12

9

3) Eymen'in 3 düzine kalemıraşı vardı. Eymen kalemıraşlarının 22 tanesini kaybetti. Eymen'in kaç tane kalemıraşı kalmıştır?

54

21

4) Tarık'ın 36 tane kitabı vardır. Deniz'in kitaplarının sayısı Tarık'ın kitaplarının sayısından 11 fazladır. Buna göre Deniz'in kaç tane kitabı vardır?

34

14

74

5) Ömer 15 yaşındadır. Bünyamin, Ömer'den 16 yaş büyüktür. Buna göre Ömer ve Bünyamin'in yaşları toplamı kaçtır?

6) Deniz'in 74 tane kalemıraşı vardır. Ömer'in kalemıraşlarının sayısı Deniz'in kalemıraşlarının sayısından 20 eksiktir. Buna göre Ömer'in kaç tane kalemıraşı vardır?

7) Zümra'nın 34 lirası vardı. Zümra parasının bir miktarına kalem almıştır. Zümra'nın 22 lirası kaldığına göre Zümra kalem için kaç lira harcamıştır?

8) Zümra'nın 2 düzine kalemi vardı. Zümra kalemlerinin 15 tanesini kaybetti. Zümra'nın kaç tane kalemi kalmıştır?



PROBLEM ÇÖZELİM



1) Kayra 33 yaşındadır. Tarık, Kayra'dan 3 yaş küçüktür. Buna göre Tarık 8 yıl sonra kaç yaşında olur?

7

95

2) 6 yıl önce 13 yaşında olan Nisanur şimdi kaç yaşındadır?

12

19

3) Mete 24 yaşındadır. Nisanur, Mete'den 8 yaş küçüktür. Buna göre Nisanur 9 yıl önce kaç yaşındaydı?

46

51

4) Yunus 19 yaşındadır. Şükriye, Yunus'dan 31 yaş büyüktür. Buna göre Şükriye 1 yıl sonra kaç yaşında olur?

38

11

1

5) Nisanur'un 76 tane kalemi vardır. Bünyamin'in kalemlerinin sayısı Nisanur'un kalemlerinin sayısından 30 eksiktir. Buna göre Bünyamin'in kaç tane kalemi vardır?

6) Bünyamin 43 yaşındadır. Zeynep, Bünyamin'den 1 yaş küçüktür. Ömer ise Zeynep'den 32 yaş küçüktür. Buna göre bu üç arkadaşın yaşları toplamı kaçtır?

7) 1 onluk ve 8 birlikten oluşan sayının 6 eksiği kaçtır?

8) Kerem'in 1 düzine balonu vardı. Kerem balonlarının 11 tanesini kaybetti. Kerem'in kaç tane balonu kalmıştır?



PROBLEM ÇÖZELİM



1) 9 birlik ve 1 onluktan oluşan sayı ile 1 birlik ve 7 onluktan oluşan sayının toplamı kaçtır?

4

90

2) Yunus'un 4 düzine kitabı vardı. Yunus kitaplarının 4 tanesini kaybetti. Yunus'un kaç tane kitabı kalmıştır?

39

7

3) Nisanur'un bir miktar kalemi vardı. Nisanur kalemlerinin 24 tanesini kaybedince 39 tane kalemi kalmıştır. Buna göre başlangıçta Nisanur'un kaç tane kalemi vardı?

63

52

4) Şükriye 36 yaşındadır. Deniz, Şükriye'den 2 yaş küçüktür. Buna göre Deniz 5 yıl sonra kaç yaşında olur?

44

41

5) Nisanur'un 54 tane kalemtraşları vardır. Kerem'in kalemtraşlarının sayısı Nisanur'un kalemtraşlarının sayısından 37 eksiktir. Buna göre bu iki arkadaşın toplam kaç kalemtraşları vardır?

6) Mete'nin 2 deste silgisi vardı. Mete silgilerinin 16 tanesini kaybetti. Mete'nin kaç tane silgisi kalmıştır?

7) Zeynep 23 yaşındadır. Ayşenaz ise 30 yaşındadır. Zeynep ve Ayşenaz'ın yaşları farkı kaçtır?

8) Ömer'in 33 tane kitabı vardır. Kerem'in kitaplarının sayısı Ömer'in kitaplarının sayısından 14 eksiktir. Buna göre bu iki arkadaşın toplam kaç kitabı vardır?



PROBLEM ÇÖZELİM



1) Nisanur 45 yaşındadır. Emir, Nisanur'dan 4 yaş küçüktür. Buna göre Emir 8 yıl önce kaç yaşındaydı?

33

55

2) 8 yıl önce 26 yaşında olan Zümra şimdi kaç yaşındadır?

90

12

3) Ertuğrul 39 yaşındadır. Muhammed, Ertuğrul'dan 10 yaş büyüktür. Buna göre Muhammed 6 yıl sonra kaç yaşında olur?

7

82

4) Zümra'nın 21 tane balonu vardır. Sukeyna'nın balonlarının sayısı Zümra'nın balonlarının sayısından 9 eksiktir. Buna göre Sukeyna'nın kaç tane balonu vardır?

34

21

29

5) Zeynep 35 yaşındadır. Yunus, Zeynep'den 24 yaş küçüktür. Ertuğrul ise Yunus'dan 25 yaş büyüktür. Buna göre bu üç arkadaşın yaşları toplamı kaçtır?

6) 5 onluk ve 4 birlikten oluşan sayının 25 eksiği kaçtır?

7) Nisanur'un 1 düzine kalemi vardı. Nisanur kalemlerinin 5 tanesini kaybetti. Nisanur'un kaç tane kalemi kalmıştır?

8) Nisanur 4 yıl önce 22 yaşındaydı. Nisanur 5 yıl önce kaç yaşındaydı?



PROBLEM ÇÖZELİM



1) Deniz 31 yaşındadır. Emir ise 39 yaşındadır. Deniz ve Emir'in 2 yıl sonra yaşları toplamı kaç olur?

37

2) 6 yıl önce 8 yaşında olan Yunus 5 yıl önce kaç yaşındaydı?

74

3) Muhammed 33 yaşındadır. Zümra ise 21 yaşındadır. Muhammed ve Zümra'nın yaşları toplamı kaçtır?

18

4) Eymen'in 4 düzine kitabı vardı. Eymen kitaplarının 30 tanesini kaybetti. Eymen'in kaç tane kitabı kalmıştır?

3

27

1

6

54

9

5) Eymen'in 4 düzine kitabı vardı. Eymen kitaplarının 47 tanesini kaybetti. Eymen'in kaç tane kitabı kalmıştır?

6) Sukeyna'nın 1 deste silgisi vardı. Sukeyna silgilerinin 4 tanesini kaybetti. Sukeyna'nın kaç tane silgisi kalmıştır?

7) Zümra'nın 3 deste balonu vardı. Zümra balonlarının 27 tanesini kaybetti. Zümra'nın kaç tane balonu kalmıştır?

8) Tarık'ın 5 deste silgisi vardı. Tarık silgilerinin 23 tanesini kaybetti. Tarık'ın kaç tane silgisi kalmıştır?



PROBLEM ÇÖZELİM



1) 9 birlik ve 6 onluktan oluşan sayı ile 6 birlik ve 5 onluktan oluşan sayının farkı kaçtır?

15

2) 3 yıl önce 27 yaşında olan Mete şimdi kaç yaşındadır?

31

3) Ayşenaz'ın bir miktar balonu vardı. Ayşenaz balonlarının 36 tanesini kaybedince 38 tane balonu kalmıştır. Buna göre başlangıçta Ayşenaz'ın kaç tane balonu vardı?

60

90

42

74

4) 5 onluk ve 1 birlikten oluşan sayının 9 fazlası kaçtır?

13

30

39

5) Nisanur'un 2 düzine balonu vardı. Nisanur balonlarının 9 tanesini kaybetti. Nisanur'un kaç tane balonu kalmıştır?

6) Meyra'nın 24 tane kitabı vardır. Ömer'in kitaplarının sayısı Meyra'nın kitaplarının sayısından 6 eksiktir. Buna göre bu iki arkadaşın toplam kaç kitabı vardır?

7) Ayşenaz'ın 28 tane balonu vardır. Zümra'nın balonlarının sayısı Ayşenaz'ın balonlarının sayısından 11 fazladır. Buna göre Zümra'nın kaç tane balonu vardır?

8) Ertuğrul'un bir miktar parası vardı. Ertuğrul parasının 15 lirasına kitap almıştır. Ertuğrul'un 16 lirası kaldığına göre Ertuğrul'un başlangıçta kaç lirası vardı?



PROBLEM ÇÖZELİM



1) Nisanur'un 5 deste kalemtraşı vardı. Nisanur kalemtraşlarının 17 tanesini kaybetti. Nisanur'un kaç tane kalemtraşı kalmıştır?

77

84

2) Deniz'in 9 deste silgisi vardı. Deniz silgilerinin 6 tanesini kaybetti. Deniz'in kaç tane silgisi kalmıştır?

41

7

3) Nisanur 33 yaşındadır. Kayra, Nisanur'dan 11 yaş büyüktür. Buna göre Nisanur ve Kayra'nın yaşları toplamı kaçtır?

69

68

4) Betül'ün 57 tane balonu vardır. Şükriye'nin balonlarının sayısı Betül'ün balonlarının sayısından 46 eksiktir. Buna göre bu iki arkadaşın toplam kaç balonu vardır?

61

33

5) Deniz'in 3 deste balonu vardı. Deniz balonlarının 23 tanesini kaybetti. Deniz'in kaç tane balonu kalmıştır?

6) Betül'ün 26 tane kitabı vardır. Ertuğrul'un kitaplarının sayısı Betül'ün kitaplarının sayısından 9 fazladır. Buna göre bu iki arkadaşın toplam kaç kitabı vardır?

7) Muhammed'in bir miktar balonu vardı. Muhammed balonlarının 17 tanesini kaybedince 24 tane balonu kalmıştır. Buna göre başlangıçta Muhammed'in kaç tane balonu vardı?

8) Ertuğrul'un 97 tane kalemtraşı vardır. Yunus'un kalemtraşlarının sayısı Ertuğrul'un kalemtraşlarının sayısından 28 eksiktir. Buna göre Yunus'un kaç tane kalemtraşı vardır?



PROBLEM ÇÖZELİM



1) Deniz 18 yaşındadır. Mete ise 12 yaşındadır. Deniz ve Mete'nin yaşları farkı kaçtır?

6

37

2) Betül, Meyra ve Bünyamin'in yaşları toplamı 98 sayısına eşittir. Betül 26, Meyra 45 yaşında olduğuna göre Bünyamin kaç yaşındadır?

16

27

3) Zeynep'in 20 tane kalemi vardır. Betül'ün kalemlerinin sayısı Zeynep'in kalemlerinin sayısından 4 fazladır. Buna göre Betül'ün kaç tane kalemi vardır?

24

61

4) Zümra 49 yaşındadır. Betül, Zümra'dan 8 yaş küçüktür. Buna göre Betül 4 yıl önce kaç yaşındaydı?

66

49

5) Tarık'ın 7 deste kitabı vardı. Tarık kitaplarının 54 tanesini kaybetti. Tarık'ın kaç tane kitabı kalmıştır?

6) Kayra 49 yaşındadır. Ömer, Kayra'dan 12 yaş küçüktür. Buna göre Ömer 4 yıl sonra kaç yaşında olur?

7) Ayşenaz'ın 35 tane balonu vardır. Emir'in balonlarının sayısı Ayşenaz'ın balonlarının sayısından 14 fazladır. Buna göre Emir'in kaç tane balonu vardır?

8) Ömer'in 11 tane kalemi vardır. Şükriye'nin kalemlerinin sayısı Ömer'in kalemlerinin sayısından 39 fazladır. Buna göre bu iki arkadaşın toplam kaç kalemi vardır?



PROBLEM ÇÖZELİM



1) Ömer'in 62 tane balonu vardı. Ömer balonlarının bir miktarını kaybedince 34 tane balonu kalmıştır. Buna göre Ömer kaç tane balon kaybetmiştir?

5

62

2) Zümra'nın 31 tane kalemi vardır. Şükriye'nin kalemlerinin sayısı Zümra'nın kalemlerinin sayısından 15 eksiktir. Buna göre Şükriye'nin kaç tane kalemi vardır?

17

63

3) Meyra 20 yaşındadır. Eymen, Meyra'dan 1 yaş küçüktür. Buna göre Eymen kaç yaşındadır?

85

16

4) Tarık 8 yıl önce 3 yaşındaydı. Tarık 6 yıl önce kaç yaşındaydı?

30

28

19

5) Mete'nin 28 tane silgisi vardır. Nisanur'un silgilerinin sayısı Mete'nin silgilerinin sayısından 7 fazladır. Buna göre bu iki arkadaşın toplam kaç silgisi vardır?

6) Betül 12, Tarık 17, Nisanur ise 32 yaşındadır. Betül, Tarık ve Nisanur'un 8 yıl sonra yaşları toplamı kaç olur?

7) Eymen'in 22 tane kitabı vardır. Yunus'un kitaplarının sayısı Eymen'in kitaplarının sayısından 18 fazladır. Buna göre bu iki arkadaşın toplam kaç kitabı vardır?

8) 9 yıl önce 5 yaşında olan Mete 3 yıl sonra kaç yaşında olur?



PROBLEM ÇÖZELİM



1) Kerem'in 26 tane kalemıraşı vardır. Tarık'ın kalemıraşlarının sayısı Kerem'in kalemıraşlarının sayısından 14 fazladır. Buna göre Tarık'ın kaç tane kalemıraşı vardır?

38

36

2) Meyra'nın 3 düzine kitabı vardı. Meyra kitaplarının 7 tanesini kaybetti. Meyra'nın kaç tane kitabı kalmıştır?

10

29

3) Kayra'nın 27 tane kitabı vardır. Tarık'ın kitaplarının sayısı Kayra'nın kitaplarının sayısından 18 fazladır. Buna göre bu iki arkadaşın toplam kaç kitabı vardır?

72

40

4) Zeynep 8 yıl önce 21 yaşındaydı. Zeynep 9 yıl sonra kaç yaşında olur?

48

69

42

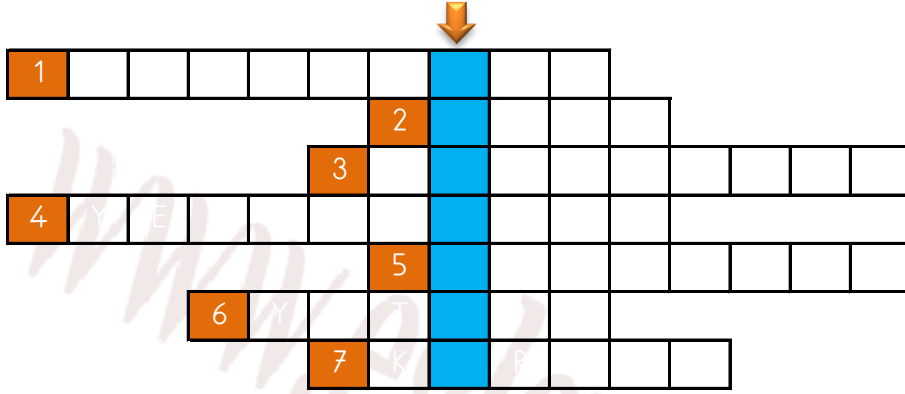
5) Sukeyna'nın 59 tane kalemi vardı. Sukeyna kalemlerinin bir miktarını kaybedince 11 tane kalemi kalmıştır. Buna göre Sukeyna kaç tane kalem kaybetmiştir?

6) Kerem, Ertuğrul ve Şükriye'nin toplam 96 kalemi var. Kerem'in 30, Ertuğrul'un 24 kalemi olduğuna göre Şükriye'nin kaç kalemi vardır?

7) Deniz 40 yaşındadır. Nisanur ise 15 yaşındadır. Deniz ve Nisanur'un 7 yıl sonra yaşları toplamı kaç olur?

8) Sukeyna'nın 38 tane kalemıraşı vardı. Sukeyna kalemıraşlarının bir miktarını kaybedince 28 tane kalemıraşı kalmıştır. Buna göre Sukeyna kaç tane kalemıraş kaybetmiştir?

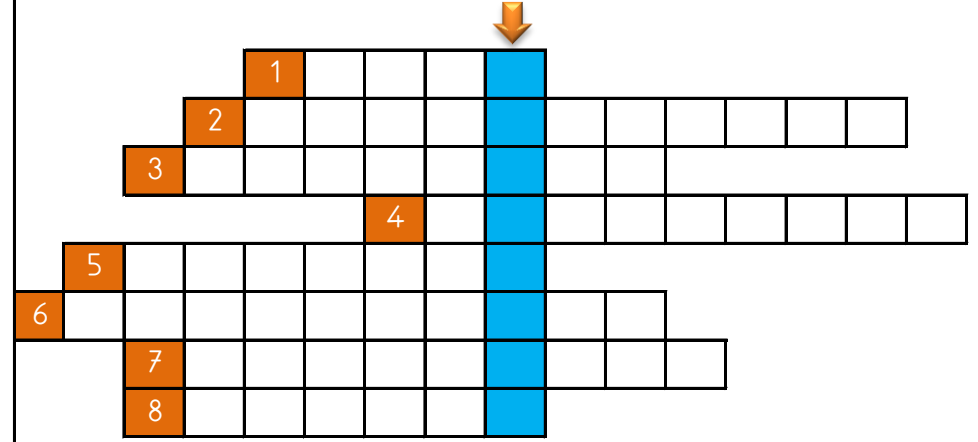
PROBLEMLER BULMACASI



SORULAR

- 1) Deniz'in bir miktar parası vardı. Deniz parasının 18 lirasına kitap almıştır. Deniz'in 20 lirası kaldığına göre Deniz'in başlangıçta kaç lirası vardı?
- 2) Yunus, Ömer ve Deniz'in yaşları toplamı 77 sayısına eşittir. Yunus 24, Ömer 40 yaşında olduğuna göre Deniz kaç yaşındadır?
- 3) Deniz 28 yaşındadır. Kayra, Deniz'den 5 yaş büyüktür. Buna göre Deniz ve Kayra'nın yaşları toplamı kaçtır?
- 4) Betül'ün 46 tane kalemıraşı vardır. Kerem'in kalemıraşlarının sayısı Betül'ün kalemıraşlarının sayısından 16 eksiktir. Buna göre bu iki arkadaşın toplam kaç kalemıraşı vardır?
- 5) Muhammed'in bir miktar kitabı vardı. Muhammed kitaplarının 24 tanesini kaybedince 1 tane kitabı kalmıştır. Buna göre başlangıçta Muhammed'in kaç tane kitabı vardı?
- 6) Kayra'nın 26 tane silgisi vardır. Eymen'in silgilerinin sayısı Kayra'nın silgilerinin sayısından 18 fazladır. Buna göre bu iki arkadaşın toplam kaç silgisi vardır?
- 7) Emir'in 21 tane silgisi vardır. Ömer'in silgilerinin sayısı Emir'in silgilerinin sayısından 1 fazladır. Buna göre bu iki arkadaşın toplam kaç silgisi vardır?

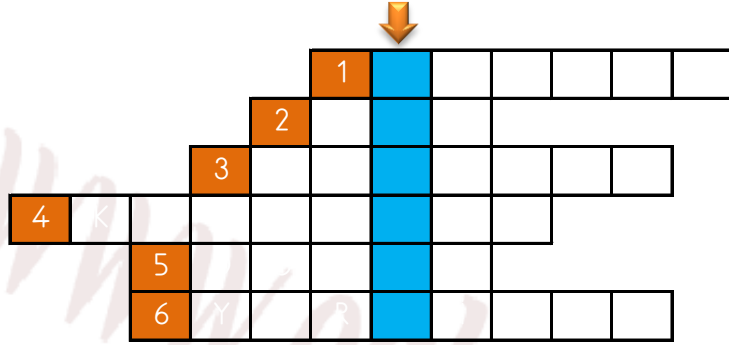
PROBLEMLER BULMACASI



SORULAR

- 1) Ertuğrul, Nisanur ve Meyra'nın toplam 95 kalemıraşı var. Ertuğrul'un 31, Nisanur'un 51 kalemıraşı olduğuna göre Meyra'nın kaç kalemıraşı vardır?
- 2) Nisanur'un 65 tane balonu vardır. Mete'nin balonlarının sayısı Nisanur'un balonlarının sayısından 32 eksiktir. Buna göre bu iki arkadaşın toplam kaç balonu vardır?
- 3) Kayra'nın 59 lirası vardı. Kayra parasının bir miktarına balon almıştır. Kayra'nın 13 lirası kaldığına göre Kayra balon için kaç lira harcamıştır?
- 4) Muhammed 18 yaşındadır. Yunus, Muhammed'den 31 yaş büyüktür. Buna göre Yunus kaç yaşındadır?
- 5) 4 birlik ve 2 onluktan oluşan sayı ile 1 birlik ve 1 onluktan oluşan sayının toplamı kaçtır?
- 6) Muhammed'in 7 deste kitabı vardı. Muhammed kitaplarının 42 tanesini kaybetti. Muhammed'in kaç tane kitabı kalmıştır?
- 7) 2 yıl önce 27 yaşında olan Eymen 3 yıl önce kaç yaşındaydı?
- 8) Yunus'un bir miktar parası vardı. Yunus parasının 36 lirasına kalemıraş almıştır. Yunus'un 44 lirası kaldığına göre Yunus'un başlangıçta kaç lirası vardı?

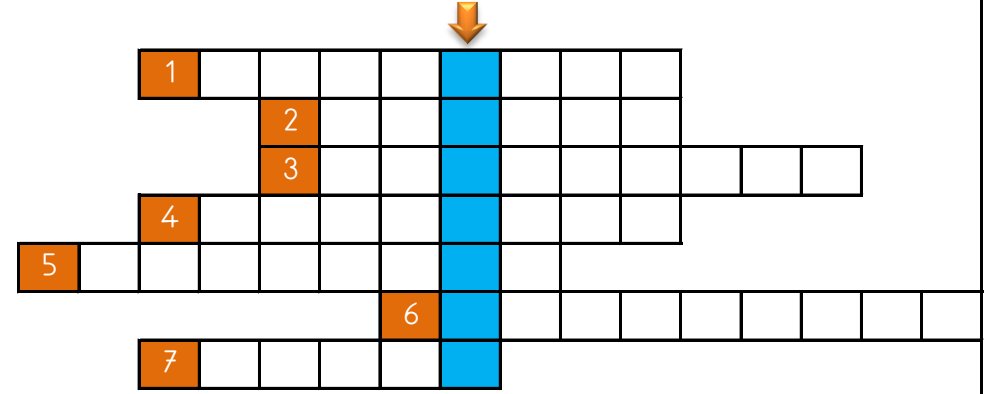
PROBLEMLER BULMACASI



SORULAR

- 1) Bünyamin'in 2 deste kalem vardı. Bünyamin kalemlerinin 6 tanesini kaybetti. Bünyamin'in kaç tane kalem kalmıştır?
- 2) Deniz 47 yaşındadır. Zeynep ise 49 yaşındadır. Deniz ve Zeynep'in yaşları farkı kaçtır?
- 3) Ayşenaz'ın bir miktar kitabı vardı. Ayşenaz kitaplarının 24 tanesini kaybedince 7 tane kitabı kalmıştır. Buna göre başlangıçta Ayşenaz'ın kaç tane kitabı vardı?
- 4) Meyra'nın 14 tane kalemtraşı vardır. Muhammed'in kalemtraşlarının sayısı Meyra'nın kalemtraşlarının sayısından 18 fazladır. Buna göre bu iki arkadaşın toplam kaç kalemtraşı vardır?
- 5) Mete'nin 1 düzine kitabı vardı. Mete kitaplarının 3 tanesini kaybetti. Mete'nin kaç tane kitabı kalmıştır?
- 6) Mete 49 yaşındadır. Zümra, Mete'den 26 yaş küçüktür. Buna göre Zümra 1 yıl önce kaç yaşındaydı?

PROBLEMLER BULMACASI



SORULAR

- 1) 3 onluk ve 2 birlikten oluşan sayı ile 1 birlik ve 6 onluktan oluşan sayının toplamı kaçtır?
- 2) Betül'ün 24 tane kitabı vardır. Meyra'nın kitaplarının sayısı Betül'ün kitaplarının sayısından 5 eksiktir. Buna göre bu iki arkadaşın toplam kaç kitabı vardır?
- 3) 9 birlik ve 6 onluktan oluşan sayının 22 fazlası kaçtır?
- 4) Yunus'un 97 tane kalem vardır. Kayra'nın kalemlerinin sayısı Yunus'un kalemlerinin sayısından 61 eksiktir. Buna göre Kayra'nın kaç tane kalem vardır?
- 5) Eymen'in 53 lirası vardı. Eymen parasının bir miktarına kalemtraş almıştır. Eymen'in 6 lirası kaldığına göre Eymen kalemtraş için kaç lira harcamıştır?
- 6) Betül'ün bir miktar kalemtraşı vardı. Betül kalemtraşlarının 47 tanesini kaybedince 18 tane kalemtraş kalmıştır. Buna göre başlangıçta Betül'ün kaç tane kalemtraşı vardı?
- 7) Zümra 41 yaşındadır. Ertuğrul, Zümra'dan 17 yaş küçüktür. Buna göre Ertuğrul 9 yıl önce kaç yaşındaydı?