

NEREDE OTURUYOR? (NORMAL SEVİYE)

Öğretmen
Masası

TAHTA

12 kişilik bir sınıfta Mete orta tarafta üçüncü sırada, Şükriye pencere tarafında dördüncü sırada, Sukeyna dolapların olduğu tarafta sondan dördüncü sırada, Muhammed pencere tarafında sondan dördüncü sırada, Kayra, Şükriye' nin önünde, Ayşenaz, Mete' nin sağında, Zümra, Sukeyna' nın arkasında, Emir, Mete' nin önünde, Ömer, Ayşenaz' ın arkasında, Nisanur, Sukeyna' nın solunda, Zeynep, Mete' nin arkasında oturmaktadır. Bu bilgileri kullanarak Meyra' nın hangi sırada oturduğunu işaretleyiniz.

Pencereler

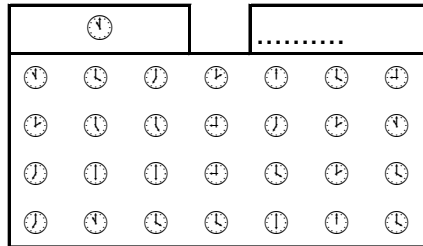
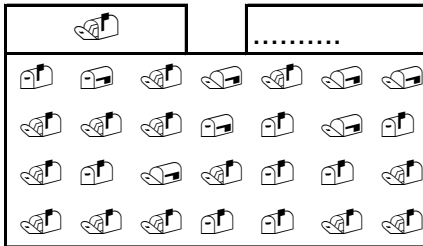
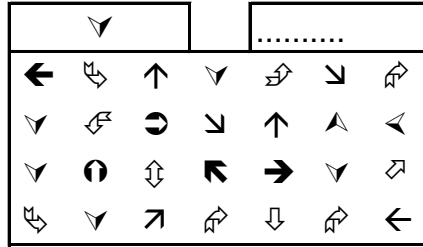

Kapı

Dolaplar

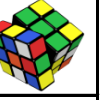
Kitaplık

Panolar

KAÇ TANE VAR?



PROBLEM ÇÖZELİM



1) Mete 27, Tarık 23, Yunus ise 24 yaşındadır. Mete, Tarık ve Yunus'un 4 yıl sonra yaşları toplamı kaç olur?

2) Bünyamin'in 59 tane balonu vardı. Bünyamin balonlarının bir miktarını kaybedince 28 tane balonu kalmıştır. Buna göre Bünyamin kaç tane balon kaybetmiştir?

3) Yunus çarşamba günü 19 kg, perşembe günü 26 kg, cuma günü de bir miktar elma satmıştır. Yunus üç günde toplam 67 kg elma sattığına göre cuma günü kaç kg elma satmıştır?

4) 3 onluk ve 3 birlikten oluşan sayı ile 4 birlik ve 6 onluktan oluşan sayının toplamı kaçtır?

5) Kerem'in bir miktar parası vardı. Teyzesi Kerem'e 29 lira daha verince Kerem'in 66 lirası oldu. Buna göre Kerem'in başlangıçta kaç lirası vardı?

6) Ayşenaz 1 yıl önce 24 yaşındaydı. Ayşenaz 3 yıl sonra kaç yaşında olur?

7) Betül'ün bir miktar kitabı vardı. Betül kitaplarının 43 tanesini kaybedince 30 tane kitabı kalmıştır. Buna göre başlangıçta Betül'ün kaç tane kitabı vardı?

8) Bünyamin perşembe günü 26 kg, cuma günü 7 kg, cumartesi günü ise 25 kg portakal satmıştır. Bünyamin bu üç günde toplam kaç kg portakal satmıştır?

37

28

97

86

58

31

73

10

22