

MATEMATİK TEKRAR ÇALIŞMASI 2

Verilen sayıların okunuşlarını yazınız.

Verilen sayıları rakamlarla yazınız.

48.....



seksen dokuz.....

73.....

on beş.....

86.....



elli altı.....

Aşağıdaki toplama ve çıkarma işlemlerini zihinden yapınız.

$$13 + 36 = \dots\dots \quad 60 - 20 = \dots\dots \quad 40 - 20 = \dots\dots \quad 40 - 30 = \dots\dots$$

$$21 + 20 = \dots\dots \quad 24 + 20 = \dots\dots \quad 23 + 12 = \dots\dots \quad 70 - 40 = \dots\dots$$

Kutuların altına bilyelerin kaç onluk ve kaç birlikten oluştuğunu yazınız.



..... onluk + birlik

..... onluk + birlik

..... onluk + birlik

Üçer ritmik sayarken 9. söylediğimiz sayı kaçtır?

Üçer ritmik sayarken 8. söylediğimiz sayı kaçtır?

İkişer ritmik sayarken 2. söylediğimiz sayı kaçtır?

Dörder ritmik sayarken 7. söylediğimiz sayı kaçtır?

40, 45, 50, 55, 60, örüntüsünü devam ettirdiğinizde hangi sayıya ulaşırsınız?

54, 51, 48, 45, 42, örüntüsünü devam ettirdiğinizde hangi sayıya ulaşırsınız?

70, 68, 66, 65, 62, 60 örüntüsünü bozan sayı hangisidir?



MATEMATİK TEKRAR ÇALIŞMASI 2

Verilen sayıların okunuşlarını yazınız.

Verilen sayıları rakamlarla yazınız.

10.....



altmış bir.....

30.....

doksan sekiz.....

59.....




yirmi yedi.....

Aşağıdaki toplama ve çıkarma işlemlerini zihinden yapınız.

$$11 + 18 = \dots\dots \quad 50 - 30 = \dots\dots \quad 14 + 10 = \dots\dots \quad 80 - 40 = \dots\dots$$

$$15 + 17 = \dots\dots \quad 21 + 28 = \dots\dots \quad 90 - 30 = \dots\dots \quad 90 - 10 = \dots\dots$$

Kutuların altına bilyelerin kaç onluk ve kaç birlikten oluştuğunu yazınız.



..... onluk + birlik

..... onluk + birlik

..... onluk + birlik

İkişer ritmik sayarken 10. söylediğimiz sayı kaçtır?

Üçer ritmik sayarken 6. söylediğimiz sayı kaçtır?

İkişer ritmik sayarken 2. söylediğimiz sayı kaçtır?

Beşer ritmik sayarken 10. söylediğimiz sayı kaçtır?

32, 30, 28, 26, 24, örüntüsünde noktalı yere kaç yazılmalıdır?

48, 44, 40, 36, 32, örüntüsünde noktalı yere kaç yazılmalıdır?

23, 27, 31, 35, 39, örüntüsünü devam ettirdiğinizde hangi sayıya ulaşırsınız?

