


### TOPLA, ÇIKAR VE İLERLE

Sırasıyla işlemlerin sonuçlarını bul ve Robotu ok yönünde sonucun rakamları toplamı kadar ilerlet.


$$\begin{array}{r} \triangleright \\ 36 \\ + 27 \\ \hline \end{array} \qquad \begin{array}{r} \blacktriangledown \\ 99 \\ - 49 \\ \hline \end{array} \qquad \begin{array}{r} \blacktriangleleft \\ 33 \\ - 18 \\ \hline \end{array} \qquad \begin{array}{r} \blacktriangleup \\ 16 \\ + 24 \\ \hline \end{array} \qquad \begin{array}{r} \triangleright \\ 72 \\ - 10 \\ \hline \end{array} \qquad \begin{array}{r} \blacktriangledown \\ 15 \\ + 15 \\ \hline \end{array}$$




### TOPLA, ÇIKAR VE İLERLE

Sırasıyla işlemlerin sonuçlarını bul ve Robotu ok yönünde sonucun rakamları toplamı kadar ilerlet.

$$\begin{array}{r} \triangleright \\ 83 \\ - 32 \\ \hline \end{array} \qquad \begin{array}{r} \blacktriangledown \\ 14 \\ + 27 \\ \hline \end{array} \qquad \begin{array}{r} \triangleright \\ 94 \\ - 33 \\ \hline \end{array} \qquad \begin{array}{r} \blacktriangleup \\ 75 \\ - 45 \\ \hline \end{array} \qquad \begin{array}{r} \blacktriangleleft \\ 78 \\ + 16 \\ \hline \end{array} \qquad \begin{array}{r} \blacktriangleup \\ 10 \\ + 10 \\ \hline \end{array}$$




												N				
													M			
															A	L
																K

### TOPLA, ÇIKAR VE İLERLE

Sırasıyla işlemlerin sonuçlarını bul ve Robotu ok yönünde sonucun rakamları toplamı kadar ilerlet.

$$\begin{array}{r} \triangleright \\ 22 \\ + 42 \\ \hline \end{array} \qquad \begin{array}{r} \blacktriangledown \\ 48 \\ - 28 \\ \hline \end{array} \qquad \begin{array}{r} \blacktriangleleft \\ 33 \\ + 29 \\ \hline \end{array} \qquad \begin{array}{r} \blacktriangledown \\ 54 \\ - 33 \\ \hline \end{array} \qquad \begin{array}{r} \triangleright \\ 54 \\ - 13 \\ \hline \end{array} \qquad \begin{array}{r} \blacktriangleup \\ 18 \\ + 22 \\ \hline \end{array}$$



															D	
																E
															M	
															H	
																G
															C	

### TOPLA, ÇIKAR VE İLERLE

Sırasıyla işlemlerin sonuçlarını bul ve Robotu ok yönünde sonucun rakamları toplamı kadar ilerlet.

$$\begin{array}{r} \blacktriangledown \\ 69 \\ - 49 \\ \hline \end{array} \qquad \begin{array}{r} \triangleright \\ 68 \\ - 52 \\ \hline \end{array} \qquad \begin{array}{r} \blacktriangledown \\ 13 \\ + 27 \\ \hline \end{array} \qquad \begin{array}{r} \blacktriangleleft \\ 36 \\ + 24 \\ \hline \end{array} \qquad \begin{array}{r} \blacktriangleup \\ 98 \\ - 84 \\ \hline \end{array} \qquad \begin{array}{r} \triangleright \\ 30 \\ + 64 \\ \hline \end{array}$$