

## TOPLA TOPLA OYUNU

Bu oyunda her satırdaki ve sütundaki sayıların toplamı aynıdır ve oyun alanlarının üzerinde yazmaktadır. Bu kurala uyarak verilmeyen sayıları bulunuz. (Yıldızlı oyunlar daha zordur.)

32

8	9
9	9
3	15

21

10	1
3	8
1	12

33

15	10
9	13
10	14

30

13	4
6	13
11	4

40 ★

15	15
15	15
13	15

23 ★★

8	8
11	8
15	

## MANAV ALIŞVERİŞİ - 1



1kg 1 TL



1kg 3 TL



1kg 4 TL



1kg 2 TL

1) Manava 50 lira verdim. 2 kg salatalık aldım. Kaç lira para üstü almalıyım? .....

2) 4 kg patlıcan kaç liradır? .....

3) 4 kg havuç kaç liradır? .....

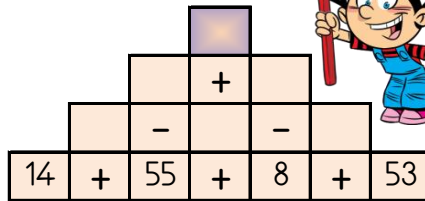
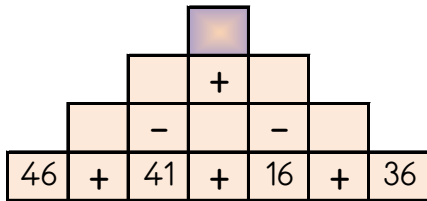
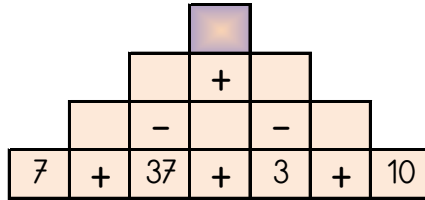
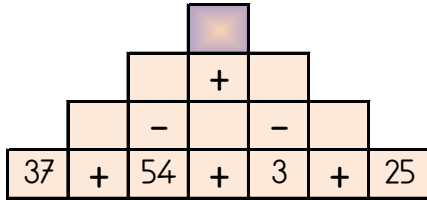
4) 9 kg salatalık ve 5 kg patlıcan toplam kaç liradır? .....

5) 5 kg havuç, 5 kg patlıcan ve 4 kg domates toplam kaç liradır? .....

6) 2 kg domates kaç liradır? .....

## PIRAMİT TOPLAMA ÇIKARMA

Sayılar arasındaki işlemleri yaparak piramitin tepesindeki sayıya ulaşın.



8

63

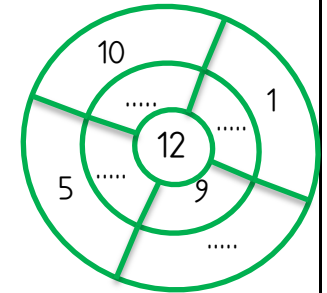
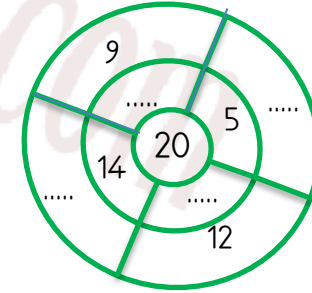
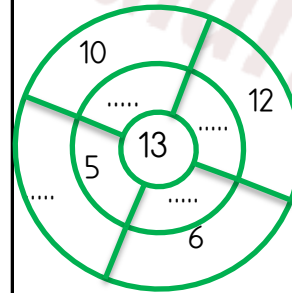
34

31

35

## EĞLENCELİ MATEMATİK - 3

Diştan içe doğru sayıların toplamı çarkın içindeki sayıya eşittir. Verilmeyenleri bulunuz.



Taralı kutudan başlayarak ok yönünde istenilen işlemi yaparak ilerleyin ve sonucu bulun.

1	5	10	8
4	-	6	
50		7	

6	3	2	5
4	+	8	
10		9	

4	5	9	3
10	-	8	
47		6	