

## KESİRLER

Aşağıdaki soruların cevaplarını noktalı yerlere yazınız.  
(Şekillerden dilediklerinizi kullanarak sonuçlara ulaşabilirsiniz.)



20 yarım = ..... bütün eder.

24 çeyrek = ..... bütün eder.

1 yarım = ..... çeyrek eder.

16 yarım = ..... bütün eder.

6 yarım = ..... bütün eder.

6 yarım = ..... çeyrek eder.

6 çeyrek = ..... yarım eder.






7 bütün = ..... çeyrek eder.

5 bütün = ..... yarım eder.

1 bütün = ..... yarım eder.

## MADENİ PARALAR ETKİNLİĞİ

Tablodan yararlanarak ismi verilen kişilerin kumbaralarındaki paralarının miktarlarını bulun.

						Toplam Para
Deniz	2	1		2	1	.....
Zeynep	2	1	1	2	1	.....
Zümra		2	4	2	2	.....
Emir		1		2	1	.....

## İŞLEM AVI

Aşağıdaki tabloda 6 adet işlem gizlenmiştir. Aşağıdaki örneği inceleyin. İşlemleri bulun ve "Diğer İşlemler" bölümüne yazın. İşlemlerin işaretleri yok, hangi işlem olduğunu anlamalısın. Kullanılan sayıları işaretleyin, tekrar kullanılmayacaklar. İşlemler soldan sağa veya yukarıdan aşağıya gizlenmiştir. (Toplama ve çıkarma işlemi)

Örnek: \* işaretleriyle gösterilmiş sayılara dikkat edin. Bu sayılarda  $9+6=15$  işlemi gizlidir.

15	10	20	1	2	19	3	12
9	4	6	7	*9	13	20	7
9	6	10	6	*6	11	13	19
4	5	11	1	*15	2	8	16
1	17	6	16	5	5	15	4
11	5	2	1	3	2	12	2

Diğer İşlemler

- 1) .....
- 2) .....
- 3) .....
- 4) .....
- 5) .....

## KAÇ TANE VAR?

