











## MADENİ PARALAR ETKİNLİĞİ

Tablodan yararlanarak ismi verilen kişilerin kumbaralarındaki paralarının miktarlarını bulun.

						Toplam Para
Kayra			1	1	3	.....
Kerem		1	4	2	2	.....
Ertuğrul	2	2	3	1	1	.....
Meyra				2	3	.....

## MADENİ PARALAR ETKİNLİĞİ

Tablodan yararlanarak ismi verilen kişilerin kumbaralarındaki paralarının miktarlarını bulun.

						Toplam Para
Ertuğrul		2	4	1	1	.....
Tank	2	2		2	2	.....
Emir	2		1	1	2	.....
Nisanur	1	1	4	1	1	.....

## MADENİ PARALAR ETKİNLİĞİ

Tablodan yararlanarak ismi verilen kişilerin kumbaralarındaki paralarının miktarlarını bulun.

						Toplam Para
Muhammed				2	2	.....
Ömer	2		4	2	3	.....
Zümra	2	1	2	2	3	.....
Eymen	1	1		2	2	.....

## MADENİ PARALAR ETKİNLİĞİ

Tablodan yararlanarak ismi verilen kişilerin kumbaralarındaki paralarının miktarlarını bulun.

						Toplam Para
Ertuğrul	2	2	1	1	3	.....
Deniz		1	2	1	2	.....
Eymen		2	4	1	2	.....
Sukeyna	1	2		2	2	.....