

DESTE, DÜZİNE, ONLUK VE BİRLİK SORULARI

Aşağıdaki problemleri çözün ve cevaplarını işaretleyin.

48 sayısına kaç eklersek 5 deste olur?

2

99 sayısı 9 desteden kaç fazladır.

43

42 sayısına kaç eklersek 4 düzine olur?

9

2 deste ve 1 düzinenin 8 eksiği kaç eder?

6

6 deste kaç eder?

21

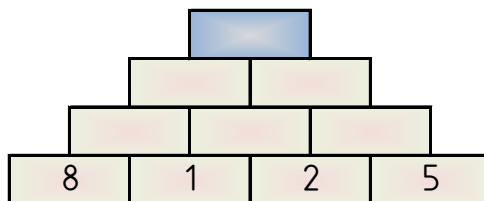
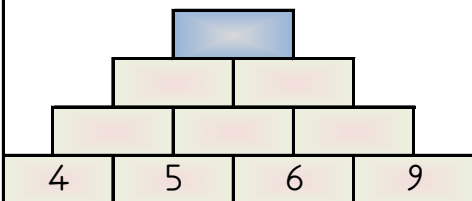
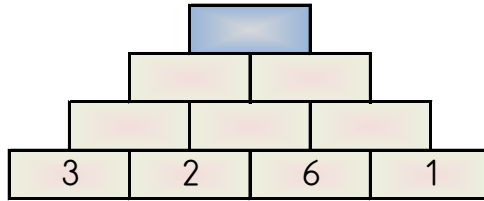
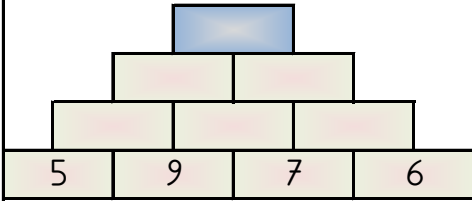
4 destenin 3 fazlası kaç eder?

24

60

PIRAMİT TOPLAMA

Piramitin altındaki sayıları toplayarak tepedeki sayıya ulaşın ve bu sayıyı işaretleyin.



46 28

59 22 51

GİZLİ KUTULAR (SONUCU 10)

$16 - 6$	$9 + 1$	$11 - 1$	$15 - 6$	$1 + 5$	$18 - 5$	$3 + 9$
$16 - 6$	$13 - 2$	$4 + 5$	$1 + 9$	$3 + 7$	$4 + 2$	$14 - 8$
$1 + 6$	$16 - 2$	$5 + 6$	$14 - 8$	$4 + 3$	$1 + 6$	$18 - 9$
$3 + 7$	$3 + 4$	$9 + 5$	$6 + 4$	$13 - 2$	$8 + 4$	$14 - 8$
$5 + 1$	$6 + 8$	$1 + 6$	$18 - 9$	$11 - 2$	$16 - 9$	$15 - 9$
$19 - 5$	$2 + 8$	$3 + 7$	$19 - 5$	$9 + 3$	$20 - 6$	$11 - 2$

Bu işlem kutularının arasında sonucu 10 olan 10 kutu gizlenmiştir. Bu kutuları bulabilir misin?

TEKRAR ÇALIŞMALAR 1

96	56	48	65	15	10
$- 57$	$+ 7$	$+ 37$	$- 58$	$+ 60$	$+ 25$

En yakın onlukları boyayın.

41	88	22	23
40	50	80	90
20	30	20	30

"<",">","=" işaretlerinden uygun olanı yazın.

$16 \dots 63$	$51 \dots 94$	$20 \dots 56$
$95 \dots 77$	$23 \dots 20$	$96 \dots 30$

Sayıları küçükten büyüğe sıralayın. (Sembolle)

24, 23, 98, 51, 67

87

Basamak Adı Basamak Değeri

→
→

2 düzinenin 6 fazlası kaç eder?

13 sayısına kaç eklersek 2 deste olur?

30, 25, 20, 15, 10, 7 örüntüsünü bozan sayı hangisidir?