

RESİM KÖŞESİ

Kitapçık Hakkında

Bu kitapçıkta konu tekrarı amaçlı etkinlikler ve dikkat geliştirici eğlenceli çalışmalar bulunmaktadır. Yönergeler veliler ve öğretmenler için hazırlandığından küçük puntolarla yazılmıştır. Faydalı olması dileğiyle.

Kontrol Edenin Adı İmzası

1. SINIF EĞLENCELİ ÇALIŞMALAR 4

18 Eğlenceli Çalışma

6 Problem



www.eglencelicalismalar.com

Adı Soyadı:

Sınıfı :

Okulu :

Yunus KÜLCÜ

Bebeği toplamı 6 olan kutuları boyayarak emziğe ulaştır. Çapraz ilerlemek yok. (9 kutu daha boyanacak.)



1 + 5	3 + 3	3 + 2	3 + 2	3 + 4	2 + 5	3 + 4
3 + 2	2 + 4	1 + 6	6 + 1	2 + 3	4 + 1	2 + 3
1 + 6	5 + 1	1 + 5	2 + 5	4 + 3	5 + 2	4 + 1
5 + 2	4 + 3	3 + 3	3 + 3	1 + 5	1 + 6	2 + 3
1 + 6	1 + 4	3 + 2	4 + 3	2 + 4	1 + 5	3 + 3



Uygun kutuları boyayarak yolu tamamlayın. (birer geri ritmik sayarak)



20	15	14	16	19	16	19	11	6	1
19	8	10	10	9	8	7	17	15	11
18	15	17	11	6	19	6	14	9	4
17	17	3	12	2	2	5	4	3	2
16	15	14	13	9	18	20	3	8	1



ADI :

PROBLEM ÇÖZELİM



1) Muhammed'in bahçesinde 8 erik, 5 tane de kiraz ağacı vardır. Muhammed'in bahçesinde toplam kaç ağaç vardır?

3) Eymen birinci gün 9 sayfa, ikinci gün birinci gün okuduğundan 2 sayfa fazla kitap okumuştur. Eymen ikinci gün kaç sayfa kitap okumuştur?

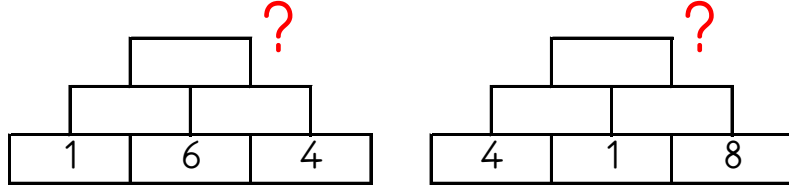
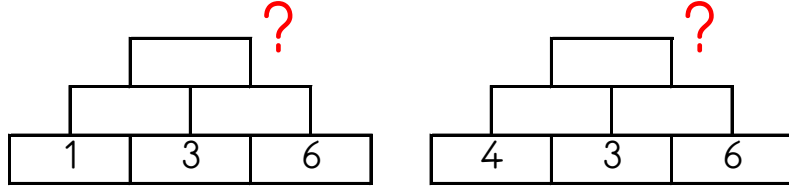
5) Şükriye 5 yaşındadır. Şükriye 9 yıl sonra kaç yaşında olur?

2) Dün 7 lira, bugün ise 5 lira harcadım. İki günde toplam kaç lira harcadım?

4) Meyra'nın 14 tane cevizi var. Annesi 6 ceviz daha verdi. Meyra'nın kaç cevizi oldu?

6) Zeynep'in 11 beyaz, 8 tane de mavi bilyesi var. Zeynep'in toplam kaç bilyesi var?

Altındaki iki kutunun toplamını bir üst kutuya yazarak en üstteki sayıyı bul ve işaretle.



16 17 13 11 14

ŞİFRELİ TOPLAMA İŞLEMLERİ

Aşağıdaki işlemleri yapın ve şifreyi bulun.







M	E	Y	A	Ğ	U
3	10	1	5	7	12
+ 4	+ 3	+ 17	+ 7	+ 2	+ 7
<hr/>					
I	K	N	O	R	Ö
9	5	9	4	4	5
+ 1	+ 12	+ 7	+ 10	+ 7	+ 3
<hr/>					

14	17	19	7	12	18	10	8	9	11	13	16



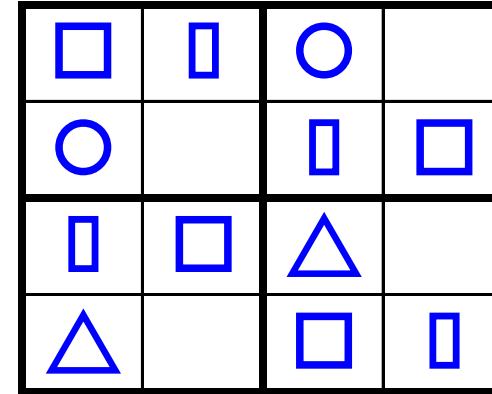
EŞİ OLMAYANI BUL

Aşağıdaki her bir kutuda eş olmayan şekli bulun ve işaretleyin.



ŞEKİLLİ SUDOKULAR (Seviye 1)

Çember, üçgen, kare ve dikdörtgen şekillerini; her satır, sütun ve koyu renkli alanlara, benzerleri olmayacak şekilde yerleştiriniz.



ŞEKİLLİ SUDOKULAR (Seviye 1)

Çember, üçgen, kare ve dikdörtgen şekillerini; her satır, sütun ve koyu renkli alanlara, benzerleri olmayacak şekilde yerleştiriniz.

○	□	▭	△
▭		○	□
△	▭	□	
	○	△	

4x4 SUDOKU (ÇOK KOLAY SEVİYE)

Her satır ve sütunda 1,2,3,4 rakamlarını kullanarak boş kutuları doldurun.

Sudoku 1

3	2	4	1
1			3
	1	3	
2	3	1	4

Sudoku 2

	1	3	
3		1	4
1	4	2	3
2		4	1

Sudoku 3

1	3	4	2
4			1
3	1		4
	4	1	3



Sudoku 4

3		1	2
2	1	3	4
1		4	
	3	2	

Sudoku 5

4	3		
2	1	3	4
	2	4	
3	4	2	

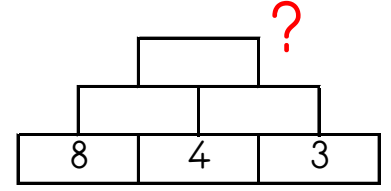
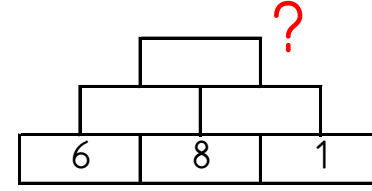
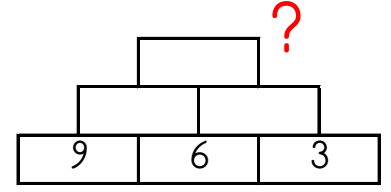
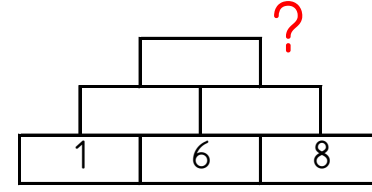
Sudoku 6

1		4	3
3	4		1
	1		2
2	3	1	



www.eglencelismalar.com

Altındaki iki kutunun toplamını bir üst kutuya yazarak en üstteki sayıyı bul ve işaretle.



16

23

19

24

21

ONLUK BİRLİK SORULARI

2 onluk ile 2 birlik kaç eder?

2 onluk ile 1 birlik kaç eder?

5 birlik ile 2 onluk kaç eder?

1 onluk ile 2 birlik kaç eder?

1 onluk ile 7 birlik kaç eder?

2 onluk ile 6 birlik kaç eder?

Kod alanındaki komutları kullanarak gerçek hazineyi bulup işaretleyebilir misin?

➤=Sağa; ➤=Sola; ▲=Yukarı; ▼=Aşağı



Başla	1	2	3	4	5
6	7	8	9	10	11
12	13	14	15	16	17
18	19	20	21	22	23
24	25	26	27	28	29
30	31	32	33	34	35

KOD ALANI

Başla; 5▼; 4➤; 3▲;
1➤; 1▼; 3◀; 2▲; 1◀;
1▲; 4➤; Bitir.



Başla	1	2	3	4	5
6	7	8	9	10	11
12	13	14	15	16	17
18	19	20	21	22	23
24	25	26	27	28	29
30	31	32	33	34	35

KOD ALANI

Başla; 2▼; 1➤; 2▼;
1➤; 2▲; 2➤; 2▼; 1➤;
2▲; 3◀; 1▲; 1➤;
Bitir.

EŞİ OLMAYANI BUL (ŞİFRELİ)

Her bir kutuda eşî olan harfleri boya ve tek kalan harfleri şifre bölümüne yazarak şifreyi oluştur.

1	2	3	4				
D Ü Ç	I N N	I N N	U U E				
D N N	I K İ	I M D	R R N				
İ Ü İ	İ A K	M D L	E İ N				
5	6	7	8				
B Ş A	M O R	K K N	N D D				
Ö O O	K O B	D İ İ	B K B				
A Ö B	B R M	N A D	K İ İ				
1	2	3	4	5	6	7	8

www.egencealiscismalar.com

ŞİFRE ÇÖZME ÇALIŞMASI

Aşağıdaki harf numaralandırmalarına göre verilen şifreli kelimeleri ortaya çıkar.



k	t	v	c	g	u	ü	a	e
1	2	3	4	5	6	7	8	9

2818

72747

959

9392

ARADAKİ SAYI

Aşağıda verilen sayı çiftlerinin aralarındaki sayıları yazın.

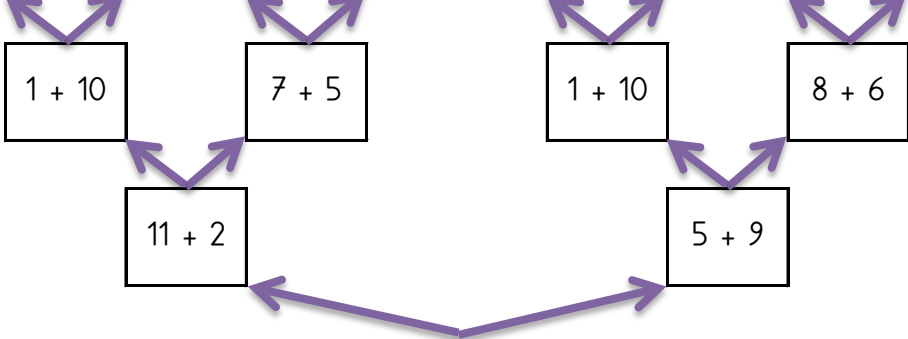
1		3
11		13
17		19
10		12
12		14
4		6
18		20
9		11

HANGİSİ BÜYÜK

Sonucu büyük olan taraftan devam et. Ulaştığın çıkışı işaretle.

1.Çıkış 2.Çıkış 3.Çıkış 4.Çıkış 5.Çıkış 6.Çıkış 7.Çıkış 8.Çıkış

8 + 5	14 + 1	9 + 1	3 + 8	5 + 6	12 + 1	13 + 1	6 + 9
-------	--------	-------	-------	-------	--------	--------	-------



Başla

HARF SUDOKU (KOLAY SEVİYE)

Her satır ve sütunda A, E, O, İ harflerini kullanarak boş kutuları doldurun.

Sudoku 1

O		A	E
E		İ	O
İ		O	A
		E	

Sudoku 2

E	A	İ	
O		E	
A		O	İ
			E

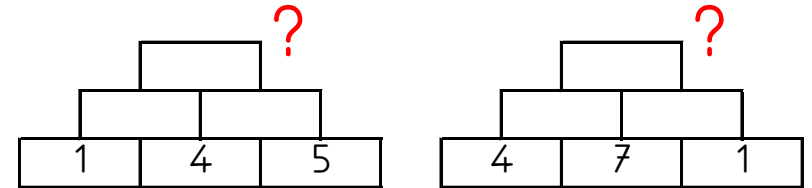
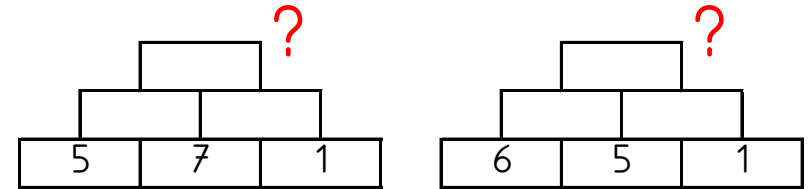
Kutuları boyayarak yolu tamamla. (ikişer ileri ritmik sayarak.)



2	16	10	4	4	12
4	6	8	10	2	8
14	8	18	12	6	18
10	18	20	14	12	2
6	4	10	16	18	20



Altındaki iki kutunun toplamını bir üst kutuya yazarak en üstteki sayıyı bul ve işaretle.



7

17

14

19

20