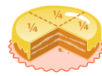




## KOLAY KESİR SORULARI



16'nin  $\frac{1}{4}$ 'ü kaçtır?

Cevap:.....

22'nin  $\frac{1}{2}$ 'si kaçtır?

Cevap:.....

36'nin  $\frac{1}{2}$ 'si kaçtır?

Cevap:.....

36'nin  $\frac{1}{3}$ 'ü kaçtır?

Cevap:.....

54'ün  $\frac{2}{3}$ 'ü kaçtır?

Cevap:.....

65'in  $\frac{3}{5}$ 'i kaçtır?

Cevap:.....

36 4 18 39 11 12



## KOLAY KESİR SORULARI



75'in  $\frac{3}{5}$ 'i kaçtır?

Cevap:.....

35'in  $\frac{4}{5}$ 'i kaçtır?

Cevap:.....

95'in  $\frac{1}{5}$ 'i kaçtır?

Cevap:.....

90'ın  $\frac{2}{9}$ 'u kaçtır?

Cevap:.....

96'nın  $\frac{5}{6}$ 'sı kaçtır?

Cevap:.....

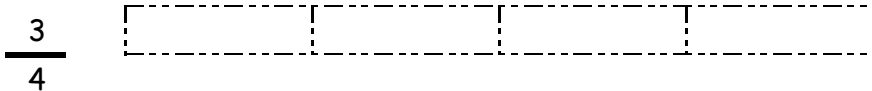
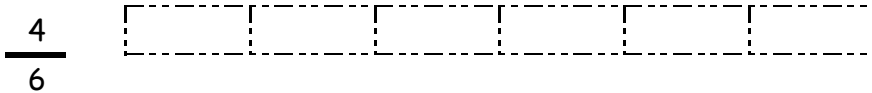
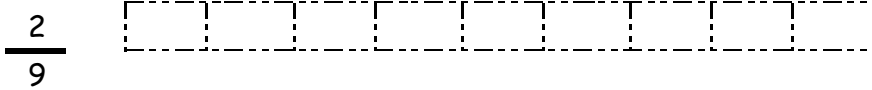
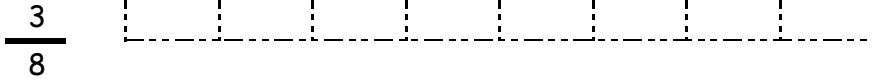
16'nın  $\frac{1}{4}$ 'ü kaçtır?

Cevap:.....

20 28 19 45 4 80

## KESİR ŞEKİL BOYAMA

Aşağıdaki şekilleri verilen kesirlere uygun şekilde boyayın.



## KESİR YAZMA ETKİNLİKLERİ

Aşağıdaki kesirlerin pay ve paydalarını şekillere göre yazınız.

