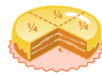




KOLAY KESİR SORULARI



18'in $\frac{7}{9}$ 'u kaçtır?

Cevap:.....

28'in $\frac{5}{7}$ 'si kaçtır?

Cevap:.....

15'in $\frac{3}{5}$ 'i kaçtır?

Cevap:.....

76'nın $\frac{2}{4}$ 'ü kaçtır?

Cevap:.....

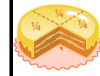
45'in $\frac{2}{3}$ 'ü kaçtır?

Cevap:.....

50'nin $\frac{1}{2}$ 'si kaçtır?

Cevap:.....

38 9 20 25 14 30



KOLAY KESİR SORULARI



32'nin $\frac{1}{2}$ 'si kaçtır?

Cevap:.....

14'ün $\frac{6}{7}$ 'si kaçtır?

Cevap:.....

60'ın $\frac{1}{3}$ 'ü kaçtır?

Cevap:.....

42'nin $\frac{5}{7}$ 'si kaçtır?

Cevap:.....

90'ın $\frac{1}{9}$ 'u kaçtır?

Cevap:.....

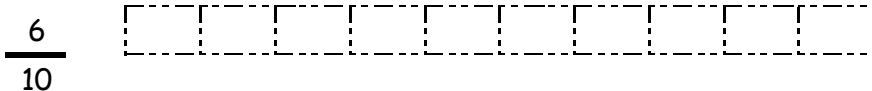
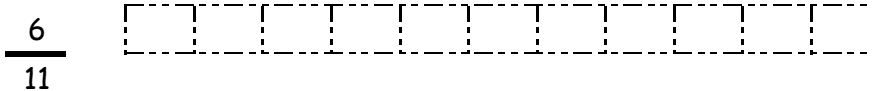
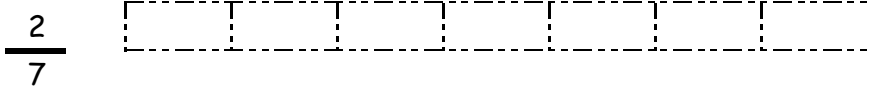
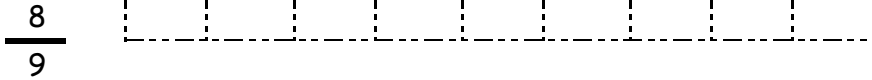
48'in $\frac{1}{6}$ 'si kaçtır?

Cevap:.....

30 12 10 20 16 8

KESİR ŞEKİL BOYAMA

Aşağıdaki şekilleri verilen kesirlere uygun şekilde boyayın.



KESİR YAZMA ETKİNLİKLERİ

Aşağıdaki kesirlerin pay ve paydalarını şekillere göre yazınız.

